

Казенное общеобразовательное учреждение
Ханты - Мансийского автономного округа - Югры
"Няганская школа-интернат для обучающихся с ограниченными возможностями
здоровья".

Сборник
письменных проверочных работ
по географии
для учащихся 6-9 классов



С.В.Петунина
учитель географии,
высшая категория

Нягань, 2017

Содержание

1. Пояснительная записка	3
2. Начальный курс. География. 6 класс.....	4
3. География России. 7 класс.....	19
4. География материков и океанов .8 класс.....	38
5. География ХМАО-Югры. 9 класс.....	59
6. Литература.....	78

Пояснительная записка

Сборник письменных проверочных работ ориентирован на требования, содержащиеся в программе «География» Т. М. Лифановой из сборника «Программы специальных (коррекционных) образовательных учреждений VIII вида» 2006 года под редакцией И.М. Бгажноковой.

Программа предполагает использование учебников географии для 6-8 классов, под редакцией Т.М.Лифановой, Е.Н. Соломиной и рабочих тетрадей автора Т.М.Лифановой и дополнительной литературы.

Пособие включает различные типы заданий для тематической и итоговой проверки знаний обучающихся по курсу «География. Начальный курс», «География России», «География материков и океанов», «География Государств Евразии», «География ХМАО» и позволяет учителю сделать опрос более разнообразным по форме. Предлагаемые варианты заданий можно использовать целиком или выборочно как для поэтапного контроля каждого урока, так и для проверки знаний изученных разделов курса.

Данное пособие может быть использовано для систематической работы в рамках школьного учебного курса, а также для текущей и промежуточной аттестации обучающихся 6-9 классов по определённым темам и разделам в соответствии с требованиями программы.

В сборнике представлены задания по группам обучения. За основу деления учащихся на группы их развития, взята классификация В. В. Воронковой.

1 группа – это обучающиеся, наиболее успешно овладевающие программным материалом в процессе фронтального обучения. Все задания ими выполняются самостоятельно.

2 группа – это обучающиеся, достаточно успешно обучающиеся в классе. Они понимают фронтальное объяснение учителя, неплохо запоминают изучаемый материал. Их отличает меньшая самостоятельность в выполнении всех видов работ, они нуждаются в помощи учителя, как активизирующей, так и организующей. Перенос знаний в новые условия их в основном не затрудняет.

3 группа – это обучающиеся, которые с трудом усваивают программный материал, нуждаются в разнообразных видах помощи (словесно-логической, наглядной и предметно-практической). Данная группа обучающихся выполняют задания 2 группы, но с помощью учителя.

Принцип деления по группам позволяет осуществлять проверку знаний в соответствии с индивидуальными особенностями ученика.

Пособие адресовано учителям, а также может использоваться школьниками при подготовке к урокам, контрольным и проверочным работам.

Требования к оценке знаний, умений и навыков учащихся.

Результатом проверки уровня усвоения учебного материала является оценка.

При оценке знаний учащихся предполагается обращать внимание на правильность, осознанность, логичность и доказательность в изложении материала, точность использования географической терминологии, самостоятельность ответа.

оценка "5"- 80-100%	оценка "3"- 50-65%
оценка "4"- 65-80%	оценка "2"- до 50%

География. Начальный курс. 6 класс.



**Тест по теме
"Ориентирование на местности"- 1 группа**

1. Допиши определение

Ориентирование - это умение правильно _____

2. Напиши основные стороны горизонта

а) _____

б) _____


в) _____

г) _____

3. Определи направления, указанные стрелками.

1. 

2. 

3. 

1. _____

2. _____

3. _____

4. Напиши полные названия промежуточных сторон горизонта.

СЗ _____

СВ _____

ЮЗ _____

ЮВ _____

5. Солнце бывает в полдень

а) на юге

б) на севере

6. Прочитай местные признаки природы. Подчеркни те, по которым можно определить северную сторону горизонта.

Мох на стволах деревьев, Муравейник у дерева, таяние снега весной на склонах, ветви деревьев короче, кольца на пнях вытянуты, лишайник у стволов деревьев.

7. Прочитай задачу, начерти схему сторон горизонта. Определи по схеме направления, запиши ответ.

На закате туристы подошли к деревне. В каком направлении они шли, если Солнце было прямо перед ними? _____

В каком направлении дачники будут возвращаться из леса, если он расположен к северу от дачного поселка? _____

Тест по теме
"Ориентирование на местности" - 2-3 группа

1. Выбери правильный ответ и допиши определение

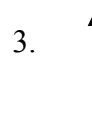

Ориентирование - это умение правильно _____

(находить стороны горизонта; определять правильное направление в пути)

2. Подчеркни основные стороны горизонта

- а) юг
- б) северо -восток
- в) север
- г) юго-запад
- д) восток
- е) запад
- ж) северо-запад

3. Определи направления, указанные стрелками.



1. _____

2. _____

3. _____

4. Напиши полные названия промежуточных сторон горизонта.

СЗ _____
СВ _____
ЮЗ _____
ЮВ _____

5. Солнце бывает в полдень

- а) на юге
- б) на севере

6. По какому признаку можно определить северную сторону горизонта?

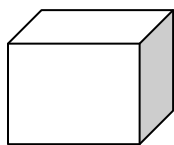
- а) мох на стволах деревьев
- б) ветви деревьев длиннее


7. По какому признаку можно определить южную сторону горизонта?

- а) ветви деревьев короче
- б) муравейник у дерева

**Тест по теме
"План и карта" - 1 группа**

1. Подпиши. Где план, а где рисунок?





2. Где контур предмета изображают сбоку?

- А) На плане Б) На рисунке

3. Где контур предмета изображают сверху?

- А) На рисунке Б) На плане

4. Выбери и подчеркни признаки карты

- А) Масштаб мелкий
Б) Масштаб крупный
В) Чертеж небольшого участка земной поверхности
Г) Изображение на плоскости всей поверхности Земли
Д) Города изображены кружочками

5. Допиши предложения.

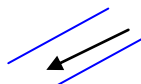
Воду на физических картах изображают _____ цветом.

Поверхность суши изображают _____ , _____ ,
_____ цветами .

6. Рассмотрите условные знаки карты. Определи и зачеркни лишний. Остальные подпиши.









7. Подчеркни нужное слово.

Географические объекты на карте показывать надо только: **ручкой, линейкой, пальцем, указкой.**

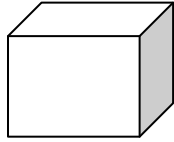
8. Выбери правильный ответ и допиши предложения.


Физическая карта - это географическая карта, на которой изображают _____
_____ .

(поверхность суши, моря и океаны; небольшой участок местности)

**Тест по теме
"План и карта" - 2-3 группа**

1. Подпиши. Где план, а где рисунок?





2. Где контур предмета изображают сбоку?

- А) На плане Б) На рисунке

3. Где контур предмета изображают сверху?

- А) На рисунке Б) На плане

4. Выбери и подчеркни признаки карты

- А) Масштаб мелкий
Б) Масштаб крупный
В) Чертеж небольшого участка земной поверхности
Г) Изображение на плоскости всей поверхности Земли
Д) Города изображены кружочками

5. Выбери правильный ответ и допиши предложения.

Воду на физических картах изображают _____ цветом.

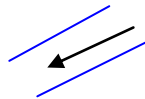
Равнины изображают _____ цветом, возвышенности изображают _____ цветом, горы изображают _____ цветом .

(синим, зеленым, желтым, коричневым)

6. Рассмотрите условные знаки плана и карты. Выбери правильный ответ и подпиши.









(озеро, река, граница, столица, болото, город)

7. Подчеркни нужное слово.

Географические объекты на карте показывать надо только: **ручкой, линейкой, пальцем, указкой.**

**Тест по теме
"Формы поверхности Земли" - 1 группа.**

1. Дополни предложение.

Основные формы поверхности Земли- это равнины, _____,
_____, низменности, _____, _____.

2. Выбери правильный ответ и допиши предложения.

Большие пространства ровной местности - это _____.

Небольшие возвышения на равнинах называются _____.

Овраги - это большие, глубокие _____.

Участки земной поверхности, возвышающиеся над окружающей местностью _____.

3. Установи соответствие. Что обозначают на физических картах данным условным цветом?



равнины



горы

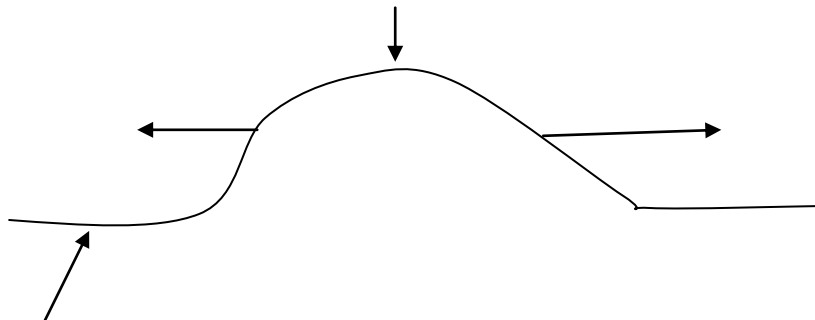


холмы

водоемы



4. Подпиши части холма.



5. Реши задачу.

При подъеме в гору температура воздуха падает на 1 градус через каждые 150 метров. Определи, на сколько метров в горы поднялись туристы, если температура воздуха у подножия горы равна 25 градусов, а на стоянке туристов-15 градусов.

6. Какие формы земной поверхности ты наблюдал в своей местности? Подчеркни:

холмистая равнины, холм, плоская равнина, горы, овраги.

7. Выбери правильный ответ и подчеркни. Как ведут люди борьбу с оврагами?

засыпают овраги; засевают травой; копают глубже; высаживают по склонам деревья и кустарники.; вырубает деревья вдоль оврагов.

**Тест по теме
"Формы поверхности Земли" - 2-3 группа.**

1. Выбери правильный ответ и дополни предложение.

Основные формы поверхности Земли- это равнины, _____,
_____, низменности, _____, _____.
(река, овраги, горы, океаны, возвышенности, поляны, плоскогорья, луга)

2. Выбери правильный ответ и допиши предложения.

Большие пространства ровной местности - это _____.

Небольшие возвышения на равнинах называются _____.

Овраги - это большие глубокие _____.

Участки земной поверхности, возвышающиеся над окружающей местностью _____.
(горы; холм; углубления; равнины)

3. Установи соответствие. Что обозначают на физических картах данным условным цветом?



равнины



горы

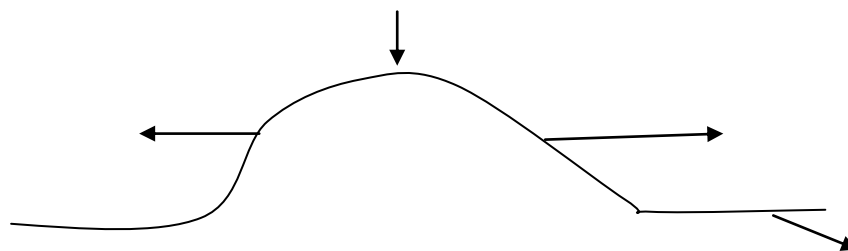


холмы

водоемы



4. Подпиши части холма, используя слова для справок.



Слова для справок: пологий склон, крутой склон, подошва, вершина

5. Чем холм отличается от горы

А) высотой Б) расположением

6. Какие формы земной поверхности ты наблюдал в своей местности? Подчеркни:

холмистая равнины, холм, плоская равнина, горы, овраги.

7. Выбери правильный ответ и подчеркни. Как ведут люди борьбу с оврагами?

засыпают овраги; засевают травой; копают глубже; высаживают по склонам деревья и кустарники.; вырубая деревья вдоль оврагов.

**Тест по теме
"Вода на Земле" - 1 группа**

1. Дополни предложения.

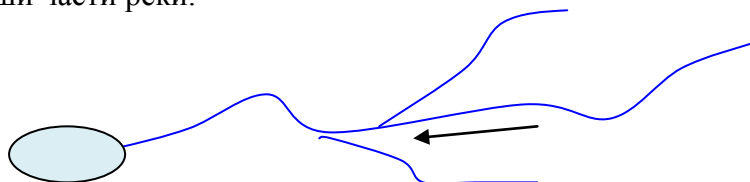
К искусственным водоемам относятся _____ , _____ , _____ .

К естественным водоемам относятся _____ , _____ , _____ .

2. Подпиши водоем, который изображен на картинке.



3. Подпиши части реки.



4. Из данных географических объектов подчеркни те, которые являются частью океана:

река, болото, залив, ледник, озеро, пролив, море.

5. Выбери правильный ответ и подчеркни его.

Болото образуется на месте: *дороги, озера, пруда, вырубки леса, холма, в низинах густого леса.*

6. Прочитай рассказ. Найди в рассказе признаки, по которым дети обнаружили родник и подчеркни их.

Школьники возвращались из похода. Был жаркий день, всем хотелось пить, но запасы воды кончились. На пути им встретился глубокий овраг. Дети спустились в овраг, надеясь найти ручеек. Но дно было пустым. Миша поднял камешек. Обратная сторона камешка оказалась сырая: значит, где-то близко под землей - вода. Дети осмотрели землю, поднимали камни, раздвигали траву и обнаружили, что в одной из ямок камни мокрые. Они взяли лопатку и углубили ямку. Со стенок начала сочиться вода, и ямка наполнилась водой.

7. Прочитай описание водоемов. Определи, о каком водоеме идет речь.

Протекая через густые заросли мхов и трав, через толстый слой торфа, вода в этом водоеме очищается от пыли, вредных веществ и становится чистой. _____

Вода неслась, как бешеный зверь. Водяная струя с шипением и свистом свивалась в сплошной пенистый вал, который с ревом лез на камни, разливался дальше широкой клокотавшей и бурлившей лентой. _____

**Тест по теме
"Вода на Земле" - 2-3 группа**

1. Используя названия водоемов дополни предложения.

К искусственным водоемам относятся _____ , _____ , _____ .

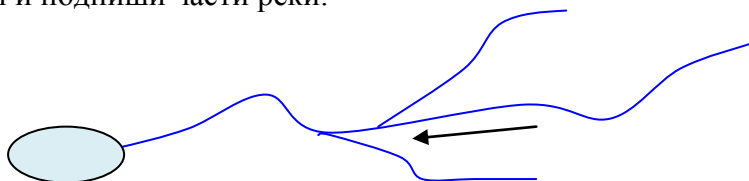
К естественным водоемам относятся _____ , _____ , _____ , _____ .

(река, пруд, озеро, колодец, море, болото, родник, водопровод, океан)

2. Подпиши водоем, который изображен на картинке.



3. Выбери и подпиши части реки.



(русло исток устье правый приток левый приток)

4. Из данных географических объектов подчеркни те, которые являются частью океана:
река, болото, залив, ледник, озеро, пролив, море.

5. Выбери правильный ответ и подчеркни его.

Болото образуется на месте: *дороги, озера, пруда, вырубки леса, холма, в низинах густого леса.*

6. Прочитай рассказ. Найди в рассказе признаки, по которым дети обнаружили родник и подчеркни их.

Школьники возвращались из похода. Был жаркий день, всем хотелось пить, но запасы воды кончились. На пути им встретился глубокий овраг. Дети спустились в овраг, надеясь найти ручеек. Но дно было пустым. Миша поднял камешек. Обратная сторона камешка оказалась сырая: значит, где-то близко под землей - вода. Дети осмотрели землю, поднимали камни, раздвигали траву и обнаружили, что в одной из ямок камни мокрые. Они взяли лопатку и углубили ямку. Со стенок начала сочиться вода, и ямка наполнилась водой.

7. Прочитай описание водоемов. Выбери правильный ответ и подпиши .

Протекая через густые заросли мхов и трав, через толстый слой торфа, вода в этом водоеме очищается от пыли, вредных веществ и становится чистой. _____

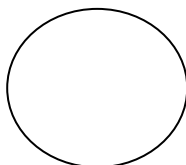
Вода неслась, как бешеный зверь. Водяная струя с шипением и свистом свивалась в сплошной пенистый вал, который с ревом лез на камни, разливался дальше широкой клокотавшей и бурлившей лентой. _____

(горная река равнинная река озеро болото пруд)

Тест по теме
"Земной шар"- 1 группа.

1. Дорисуй картинку, чтобы получился глобус.

Подпиши на рисунке экватор, Северный полюс (С.п.), Южный полюс (Ю.п.)



Глобус- это модель _____ .

2. Вставь пропущенное обобщающее слово.

Тихий, Атлантический, Индийский, Северный Ледовитый - это _____

Африка, Америка, Европа, Азия, Австралия, Антарктида - это _____

Северная Америка, Южная Америка, Антарктида, Евразия, Австралия, Африка - это _____

3. Ответь на вопросы.

Какой материк самый маленький? _____

Какой материк самый жаркий? _____

Какой материк расположен в восточном и западном полушариях? _____

Какие материки пересекают экватор? _____

На каком материке ты живешь? _____

4. Определи и подпиши тип климата.

Лето сухое, зима холодная, снежная. _____

Круглый год идут частые морозящие дожди со снегом или небольшой снег. Бывают туманы. _____

Лето прохладное, дождливое. Зима теплая с сильным ветром и дождем. _____

5. Прочитай рассказ. Какие ошибки допущены в тексте? Выпиши животных, обитающих в других поясах. _____

В тропическом лесу много животных. С дерева на дерево прыгают обезьяны и пушистые белки. В реках и озерах водятся крокодилы, бобры и черепахи. На лесных опушках обитают слоны, бегемоты, белые медведи. Очень много разных птиц: попугаи, глухари. В саваннах живут быстроногие зебры, жирафы, лоси, тигры.

6. О каком поясе идет речь. Напиши названия животных, обитающих в этом поясе.

Солнце летом поднимается высоко, а зимой стоит низко над горизонтом. Здесь бывает четыре времени года. Растут хвойные и лиственные деревья. Там, где дождей выпадает мало, расположена степь. _____

Солнце поднимается низко над горизонтом. Лето короткое, зима длинная. Растений очень мало: мхи, лишайники. _____

**Тест по теме
"Земной шар"- 2-3 группа.**

1. О чем говорится в тексте: о глобусе или о земном шаре?

На нем есть материки и океаны, острова и моря. На нем проведена линия экватора, обозначены точки Северного и Южного полюсов. Он вращается вокруг железной оси и для удобства стоит на подставке. Это _____

2. Выбери правильный ответ и вставь пропущенное обобщающее слово.

Тихий, Атлантический, Индийский, Северный Ледовитый - это _____
Африка, Америка, Европа, Азия, Австралия, Антарктида- это _____
Северная Америка, Южная Америка, Антарктида, Евразия, Австралия, Африка - это _____

(материки, океаны, части света)

3. Выбери и запиши правильный ответ.

Какой материк самый маленький? _____

Какой материк самый жаркий? _____

Какой материк расположен в восточном и западном полушариях? _____

Какие материки пересекают экватор? _____

На каком материке ты живешь? _____

(Евразия, Африка, Антарктида, Северная Америка, Южная Америка, Австралия)

4. Дополни предложения, выбрав правильный ответ.

Солнечные лучи в тропическом поясе падают: _____, в умеренных поясах _____, а у полюсов _____.

(наклонно, отвесно (прямо), скользят по поверхности Земли)

5. О каком поясе идет речь. Выбери правильный ответ и запиши.

(тропический, полярный, умеренный)

Солнце летом поднимается высоко, а зимой стоит низко над горизонтом. Здесь бывает четыре времени года. Растут хвойные и лиственные деревья. Там, где дождей выпадает мало, расположена степь. _____

Солнце поднимается низко над горизонтом. Лето короткое, зима длинная. Растений очень мало: мхи, лишайники. _____

В этих районах солнечные лучи падают отвесно (прямо), поэтому этот пояс получает больше всего тепла и весь год стоит жаркая погода. _____

В каком поясе обитают эти животные? Распредели по местам обитания: *пингвин, лось, слон, белый медведь, белка, глухарь, морж, носорог, жираф.*

**Тест по теме
"Карта России"- 1 группа.**

1. Выбери и подчеркни правильные ответы.

- А) Россия расположена на юге материка Евразия
- Б) Россия расположена на севере материка Евразия
- В) Территория России находится в двух частях света Европе и Азии
- Г) Граница между Европой и Азией проходит по Кавказским горам
- Д) Граница между Европой и Азией проходит по Уральским горам
- Е) К западу от Уральских гор лежит европейская часть России
- Ж) Азиатская часть включает Восточно-Европейскую равнину
- З) Азиатская часть включает Сибирь и Дальний Восток

2. Прочитай названия островов. Пользуясь картой, данные острова выпиши по порядку с запада на восток.

Новая Земля, Новосибирские острова, остров Врангеля, остров Северная Земля.

3. Пользуясь картой, дополни предложения.

Суша, окруженная с трех сторон водой _____

Самый большой полуостров на востоке России _____

Самый северный полуостров России _____

Полуостров, отделяющий Белое море от Баренцева _____

4. Ответь на вопросы, используя карту.

Поверхность какой равнины плоская, без возвышенностей, реки текут медленно и спокойно? _____

Какая равнина раскинулась от берегов Северного Ледовитого океана до Черного моря?

Какая возвышенность расположена к востоку от Западно-Сибирской равнины?

5. Запиши названия гор по возрастающей (от самых низких к самым высоким).

Кавказ, Уральские, Алтай, Саяны

1. _____ 3. _____

2. _____ 4. _____

6. Пользуясь картой, установи соответствие.

Волга

Обь

Енисей

озеро Байкал

Урал

Лена

Ладожское озеро

Амур

реки и озера европейской части России

реки и озера азиатской части России

**Тест по теме
"Карта России"- 2-3 группа.**

1. Пользуясь картой, выбери и подчеркни правильные ответы.

- А) Россия расположена на юге материка Евразия
- Б) Россия расположена на севере материка Евразия
- В) Территория России находится в двух частях света Европе и Азии
- Г) Граница между Европой и Азией проходит по Кавказским горам
- Д) Граница между Европой и Азией проходит по Уральским горам
- Е) К западу от Уральских гор лежит европейская часть России
- Ж) Азиатская часть включает Восточно-Европейскую равнину
- З) Азиатская часть включает Сибирь и Дальний Восток

2. Пользуясь картой, распредели острова по океанам.

Новая Земля, Сахалин, остров Врангеля, остров Северная Земля, Курильские острова.

Острова Тихого океана _____

Острова Северного Ледовитого океана _____

3. Выбери правильный ответ и пользуясь картой дополни предложения.

Суша, окруженная с трех сторон водой _____

Самый большой полуостров на востоке России _____

Самый северный полуостров России _____

Полуостров, отделяющий Белое море от Баренцева _____

(Камчатка, полуостров, Таймыр, Чукотский, Сахалин, Кольский)

4. Выбери и запиши правильный ответ, используя карту.

Поверхность какой равнины плоская, без возвышенностей, реки текут медленно и спокойно? _____

Какая равнина раскинулась от берегов Северного Ледовитого океана до Черного моря?

Какая возвышенность расположена к востоку от Западно-Сибирской равнины?

*(Западно-Сибирская равнина, Восточно-Европейская равнина,
Среднесибирское плоскогорье)*

5. Выбери правильный ответ и допиши предложения.

Самые высокие горы _____

Самые низкие горы _____

Горы между Алтаем и озером Байкал _____

(Алтай, Уральские, Кавказ, Саяны)


6. Подчеркни названия рек и озер Азиатской части России.

*Волга, Ладожское озеро, Енисей, Обь, озеро Байкал, Урал, Днепр, Онежское озеро,
Кама, Амур, Лена, Ангара, Дон.*

Итоговый тест «Начальный курс географии»

1 группа

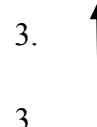
1. Определи и запиши направления, указанные стрелками.



1. _____



2. _____



3. _____

2. Каким цветом на физических картах обозначают разные формы поверхности Земли?
Установи соответствие.

горы	зеленым
равнины	синим
возвышенности	коричневым
водоемы	желтым

3. Дай общее название географическим объектам. Выбери и запиши правильный ответ.
(Океаны, моря, водоемы, части света, формы поверхности Земли, материки, полуострова, острова)

Африка, Евразия, Австралия - это _____

Равнины, горы, холмы - это _____

Реки, озера, болота - это _____

Таймыр, Ямал, Камчатский - это _____

Тихий, Индийский, Атлантический - это _____

4. Пользуясь картой ответь на вопросы.

Поверхность какой равнины плоская, без возвышенностей, реки текут медленно и спокойно? _____

Какая равнина раскинулась от берегов Северного Ледовитого океана до Черного моря?

Какая возвышенность расположена к востоку от Западно-Сибирской равнины?

Какие горы являются самыми высокими _____

Горы, по которым проходит граница между Европой и Азией _____

5. Пользуясь картой, установи соответствие.

Волга

Обь

Енисей

озеро Байкал

Урал

Лена

Ладожское озеро

Амур

реки и озера европейской части России

реки и озера азиатской части России

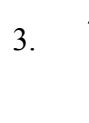
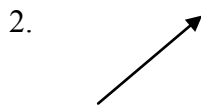

6. В какой части России расположена территория нашего края?

А) Европейской части России

Б) Азиатской части России

**Итоговый тест «Начальный курс географии»
2-3 группа**

1. Определи и запиши направления, указанные стрелками.



1. _____

2. _____

3. _____

2. Каким цветом на физических картах обозначают разные формы поверхности Земли?
Установи соответствие.

горы	зеленым
равнины	синим
возвышенности	коричневым
водоемы	желтым

3. Дай общее название географическим объектам. Выбери и запиши правильный ответ.
(*Океаны, моря, водоемы, части света, формы поверхности Земли, материки, полуострова, острова*)

Африка, Евразия, Австралия-это _____

Равнины, горы, холмы- это _____

Реки, озера, болота -это _____

Таймыр, Ямал, Камчатский - это _____

Тихий, Индийский, Атлантический- это _____

4. Выбери правильный ответ и пользуясь картой ответь на вопросы.

Поверхность какой равнины плоская, без возвышенностей, реки текут медленно и спокойно? _____

Какая равнина раскинулась от берегов Северного Ледовитого океана до Черного моря?

Какая возвышенность расположена к востоку от Западно-Сибирской равнины?

Какие горы являются самыми высокими _____

Горы, по которым проходит граница между Европой и Азией _____

*(Уральские горы, Восточно-Европейская равнина, Горы Кавказ,
Западно -Сибирская равнина, Среднесибирское плоскогорье, Горы Алтай)*

5. Подчеркни реки и озера Европейской части России

*Волга, Ладожское озеро, Енисей, Обь, озеро Байкал, Урал, Днепр, Онежское озеро,
Кама, Амур, Лена, Ангара, Дон.*

6. Какая крупная река протекает по территории нашего края?

А) Амур

Б) Енисей

В) Обь

Г) Волга

География России 7 класс



Тест по теме
"Особенности природы и хозяйства России" - 1 группа.

1. Выбери и подчеркни правильные ответы.

- А) Россия расположена на юге материка Евразия
 - Б) Россия расположена на севере материка Евразия
 - В) Территория России находится в двух частях света Европе и Азии
 - Г) Граница между Европой и Азией проходит по Кавказским горам
 - Д) Граница между Европой и Азией проходит по Уральским горам
 - Е) К западу от Уральских гор лежит европейская часть России
 - Ж) Азиатская часть включает Восточно-Европейскую равнину
- З) Азиатская часть включает Сибирь и Дальний Восток

2. Определи, о каком климате идет речь? Запиши правильный ответ.

Зима суровая и продолжительная, снег лежит до 9 месяцев в году. Лето прохладное и короткое. _____

Хорошо выражены все сезоны года: лето, зима, весна, осень. Лето теплое, зима морозная со снегом. _____

Для этого климата характерны мягкая зима (температура не опускается ниже 0 градусов) и жаркое лето. _____

3. Установи соответствие. Что обозначают на карте данным цветом?



равнины



горы



холмы



водоемы

4. Ответь на вопросы, используя карту.

Поверхность какой равнины плоская, без возвышенностей, реки текут медленно и спокойно? _____

Какая равнина раскинулась от берегов Северного Ледовитого океана до Черного моря?

Какая возвышенность расположена к востоку от Западно-Сибирской равнины?

5. Запиши названия гор по возрастающей (от самых низких к самым высоким).

- 1. _____
- 2. _____
- 3. _____
- 4. _____

6. Запиши названия рек и озер.

Реки и озера европейской части России

Реки и озера азиатской части России

Тест по теме

"Особенности природы и хозяйства России"- 2-3 группа.

1. Выбери и подчеркни правильные ответы.

- А) Россия расположена на юге материка Евразия
- Б) Россия расположена на севере материка Евразия
- В) Территория России находится в двух частях света Европе и Азии
- Г) Граница между Европой и Азией проходит по Кавказским горам
- Д) Граница между Европой и Азией проходит по Уральским горам
- Е) К западу от Уральских гор лежит европейская часть России
- Ж) Азиатская часть включает Восточно-Европейскую равнину
- З) Азиатская часть включает Сибирь и Дальний Восток

2. Определи, о каком климате идет речь? Выбери и запиши правильный ответ.

Зима суровая и продолжительная, снег лежит до 9 месяцев в году. Лето прохладное и короткое. _____

Хорошо выражены все сезоны года: лето, зима, весна, осень. Лето теплое, зима морозная со снегом. _____

Для этого климата характерны мягкая зима(температура не опускается ниже 0 градусов) и жаркое лето. _____

(арктический, субтропический, умеренный)

3. Установи соответствие. Что обозначают на карте данным цветом?



равнины



горы



холмы

водоемы



4. Выбери и запиши правильный ответ, используя карту.

Поверхность какой равнины плоская, без возвышенностей, реки текут медленно и спокойно? _____

Какая равнина раскинулась от берегов Северного Ледовитого океана до Черного моря?

Какая возвышенность расположена к востоку от Западно-Сибирской равнины?

Какие горы находятся на юге нашей страны между Черным и Каспийским морями?

(Западно-Сибирская равнина, Кавказ, Восточно-Европейская равнина, Среднесибирское плоскогорье)

5. Распредели реки и озера по территории России.

(Волга, Обь, Енисей, Онежское, Байкал, Лена, Амур, Днепр, Дон, Иртыш, Урал)

Реки и озера европейской части России _____

Реки и озера азиатской части России _____

Тест по теме
"Зона Арктических пустынь" - 1 группа

1. Допиши предложение:

Зона Арктических пустынь занимает острова _____

На юге зона Арктических пустынь граничит с зоной _____

2. Найди ошибку и подчеркни:

К зоне Арктических пустынь относятся шесть морей: Белое, Баренцево, Карское, Море Лаптевых, Охотское, Чукотское.

3. Для арктической зимы характерно:

А) низкие температуры, сильные ветра и метели

Б) низкие температуры с заморозками и дождями

4. Для арктического лета характерно:

А) холод с дождями и туманами

Б) частые заморозки, дожди со снегом и туманы

5. Зимой часто возникает

А) полярное сияние

Б) полярный день

6. Прочитай название растений Арктики. Какое из них лишнее. Подчеркни.

Мхи, лишайники, цветы, водоросли.

7. В зоне арктических пустынь обитают:

А) моржи, тюлени, бурые медведи, птицы

Б) тюлени, белые медведи, моржи

8. Допиши предложение.

У обитателей арктических пустынь густой, длинный мех и толстый _____.

9. Какие ученые работают в зоне арктических пустынь?

А) метеорологи, океанологи, биологи, зоологи

Б) метеорологи, зоологи, океанологи, синоптики

10. Вдоль берегов Северного Ледовитого океана проходит

А) Северный морской путь

Б) Транспортный путь

11. Выбери и вставь пропущенное слово

Период, когда по местным климатическим условиям возможно судоходство, называется _____.

(судоходство, навигация)

Тест по теме
"Зона Арктических пустынь" 2-3 группа

1. Допиши предложение:

На юге зона Арктических пустынь граничит с зоной _____
(*тундры, лесов*)

2. Пользуясь атласом найди ошибку и подчеркни:

К зоне Арктических пустынь относятся шесть морей: Белое, Баренцево, Карское, Море Лаптевых, Охотское, Чукотское.

3. Для арктической зимы характерно:

- А) низкие температуры, сильные ветра и метели
- Б) низкие температуры с заморозками и дождями

4. Для арктического лета характерно:

- А) холод с дождями и туманами
- Б) частые заморозки, дожди со снегом и туманы

5. Зимой часто возникает

- А) полярное сияние
- Б) полярный день

6. Прочитай название растений Арктики. Какое из них лишнее. Подчеркни.

Мхи, лишайники, цветы, водоросли.

7. В зоне арктических пустынь обитают:

- А) моржи, тюлени, бурые медведи, птицы
- Б) тюлени, белые медведи, моржи

8. Выбери правильный ответ и допиши предложение.

У обитателей арктических пустынь густой, длинный мех и толстый _____
(*слой жира, клюв и лапы*)

9. Вдоль берегов Северного Ледовитого океана проходит

- А) Северный морской путь
- Б) Транспортный путь

10. По северному морскому пути суда доставляют жителям:

- А) продукты питания, одежду, строительные материалы
- Б) продукты питания, лес, рыбу

**Тест по теме
"Зона тундры" - 1 группа**

1. Допиши предложение

Тундра- это болотистая _____ местность.

2. С какими природными зонами граничит тундра?

А) на юге с зоной лесов, а на севере с зоной арктических пустынь

Б) на юге с зоной арктических пустынь, а на севере с зоной лесов

3. Выбери правильный ответ и подчеркни.

В зоне тундры расположены полуострова:

Колгуев, Камчатка, Таймыр, Кольский, Врангеля, Ямал, Чукотский.

4. Выбери правильный ответ и подчеркни. **Особенности природных условий тундры.**

- Зима продолжается 8-9 месяцев

- длинное и жаркое лето

- налетает снежная буря- пурга

- лето короткое и прохладное

- много болот и озер

- многолетняя мерзлота

- Солнце высоко поднимается над горизонтом и хорошо согревает поверхность

5. Выбери правильный ответ и подчеркни.

Как растения приспособились к суровому климату.

невысоки; хорошо развита корневая система; высокие деревья; карликовые деревья; короткие корни; прижаты к земле.

6. Подчеркни названия птиц, обитающих в тундре.

Соловей, полярная куропатка, скворец, полярная сова, утка, гага, дрозд, чайка, кулик, орел, лебедь, белый гусь.

7. Дополни предложения.

Издавна в тундре проживали _____ , _____ , _____
_____ , _____ , _____ .

8. Выберите правильный ответ. Основные занятия жителей тундры.

Оленеводство, скотоводство, овцеводство, рыболовство, звероводство, полеводство

9. О каком городе идет речь?

Расположен за полярным кругом. Является крупным незамерзающим морским портом России. _____

**Тест по теме
"Зона тундры" - 2-3 группа**

1. Выбери правильный ответ и допиши предложение

Тундра- это _____ местность.

(болотистая безлесная, горная пустынная)

2. С какими природными зонами граничит тундра?

А) на юге с зоной лесов, а на севере с зоной арктических пустынь

Б) на юге с зоной арктических пустынь, а на севере с зоной лесов

3. Выбери правильный ответ и подчеркни.

В зоне тундры расположены полуострова:

Колгуев, Камчатка, Таймыр, Кольский, Врангеля, Ямал, Чукотский.

4. Выбери правильный ответ и подчеркни. **Особенности природных условий тундры.**

- Зима продолжается 8-9 месяцев

- длинное и жаркое лето

- налетает снежная буря- пурга

- лето короткое и прохладное

- много болот и озер

- многолетняя мерзлота

- Солнце высоко поднимается над горизонтом и хорошо согревает поверхность

5. Выбери правильный ответ и подчеркни.

Как растения приспособились к суровому климату.

невысоки; хорошо развита корневая система; высокие деревья; карликовые деревья; короткие корни; прижаты к земле.

6. Подчеркни названия птиц, обитающих в тундре.

Соловей, полярная куропатка, скворец, полярная сова, утка, гага, дрозд, чайка, кулик, орел, лебедь, белый гусь.

7. Выбери правильный ответ и дополни предложения.

Издавна в тундре проживали _____, _____, _____,
_____, _____, _____.

(чукчи, русские, эскимосы, эвенки, украинцы, якуты, эвены, ненцы, мордва)

8. Выберите правильный ответ. Основные занятия жителей тундры.

Оленеводство, скотоводство, овцеводство, рыболовство, звероводство, полеводство

9. Выбери правильный ответ. О каком городе идет речь?

Расположен за полярным кругом. Является крупным незамерзающим морским портом России. _____

(Норильск, Мурманск, Архангельск, Анадырь)

**Тест по теме
"Растительный мир зоны лесов"- 1 группа**

1. Дополни предложение

Тайга- это густой _____ лес.

Лес, где растут лиственные деревья называется _____ .

Лес, где растут и хвойные, и лиственные деревья называется _____ .

2. Подчерки названия хвойных деревьев.

Кедр лиственница осина пихта дуб сосна клен ель

3. Выпиши названия широколиственных деревьев.

Береза липа осина лиственница дуб ясень клен рябина

4. Найди ошибки и зачеркни их. Напиши правильный ответ.

В северной тайге растут больше лиственные деревья, а в южной хвойные.

К темнлюбивым относятся ель, сосна, пихта. _____

Береза, осина, лиственница - это лиственные деревья. _____

5. Дополни предложения.

Как называется лес, где растут деревья одного вида.

Лес, где растут березы называется _____

Лес, где растут сосны называется _____

Лес, где растут пихты называется _____

Лес, где растут осины _____

Лес, где растут дубы называется _____

Лес, где растут ели называется _____

6. Угадай, о каком дереве речь?

Треугольная форма кроны, хвоя колючая, шишки свисают вниз. Это _____

Крона в виде колонны, хвоя мелкая и плоская, шишки растут вверх. Это _____

Темный ствол, хвоинки расположены по пять в пучке, шишки и семена крупнее сосновых.

Это _____

7. Подчеркни названия деревьев, которые растут только в Уссурийской тайге.

амурский бархат осина китайский лимонник кедр ель пробковый дуб

Тест по теме
"Растительный мир зоны лесов"- 2-3 группа

1. Выбери из скобок определения и дополни предложения.

Тайга- это густой _____ лес.

Лес, где растут лиственные деревья называется _____ .

Лес, где растут и хвойные, и лиственные деревья называется _____ .
(*смешанный* *густой* *лиственный*)

2. Подчерки названия хвойных деревьев.

Кедр *лиственница* *осина* *пихта* *дуб* *сосна* *клен* *ель*

3. Выпиши названия широколиственных деревьев.

Береза *липа* *осина* *лиственница* *дуб* *ясень* *клен* *рябина*

4. Найди ошибки и зачеркни их. Напиши правильный ответ.

В северной тайге растут больше лиственные деревья, а в южной хвойные.

К темнлюбивым относятся ель, сосна, пихта. _____

Береза, осина, лиственница - это лиственные деревья. _____

5. Установи соответствие

Лес, где растут березы называется	дубняк
Лес, где растут сосны называется	осинник
Лес, где растут пихты называется	роща
Лес, где растут осины	ельник
Лес, где растут дубы называется	бор
Лес, где растут ели называется	пихтач

6. Угадай, о каком дереве речь? Выбери из скобок правильный ответ.

Треугольная форма кроны, хвоя колючая, шишки свисают вниз. Это _____

Крона в виде колонны, хвоя мелкая и плоская, шишки растут вверх. Это _____

Темный ствол, хвоинки расположены по пять в пучке, шишки и семена крупнее сосновых.

Это _____

(*пихта* *ель* *кедр*)

**Тест по теме:
"Зона лесов" - 1 группа**

1. Дополни предложение.

Лесная зона расположена к югу от _____ .

В зоне широколиственных лесов растут _____ , _____ ,

_____ .

В тайге растут _____ , _____ , _____ , _____ .

2. Выбери правильный ответ. Какие географические объекты находятся в лесной зоне.

А) Восточно-Европейская равнина

Б) горы Кавказ

Западно- Сибирская равнина

полуостров Ямал

Уральские горы

река Печора

река Обь

озеро Байкал

3. Прочитай названия животных. Зачеркни лишнее в каждом ряду. Дай общее название оставшимся животным.

Тигр, лось, белка, заяц _____

Лисица, волк, заяц, рысь _____

Соболь, горностай, куница, медведь _____

4. Подчеркни одной чертой названия животных лесной зоны.

Тюлень, волк, медведь, песец, бобр, лемминг, косуля, россомаха, лось.

5. Пользуясь картой выбери и подчеркни города лесной зоны. Красным карандашом- города европейской части, а синим карандашом- города азиатской части лесной зоны.

Москва, Мурманск, Сургут, Волгоград, Санкт-Петербург, Новосибирск, Астрахань, Новгород, Ярославль, Иркутск, Норильск, Хабаровск.

6. Выбери правильный ответ и дополни предложения.

Западная Сибирь-главная база по добыче _____ и _____ .

Центральная Россия - старейший _____ край.

Основная отрасль промышленности Северо-Западной России- _____ .

Восточная Сибирь - один из _____ районов России.

Дальний Восток- это главный район _____ промышленности.

(нефти, текстильный, газа, машиностроение, рыбной, малозаселенных)

7. Подчеркни промыслы, коренных жителей Сибири.

*охота на пушного зверя; овцеводство; оленеводство; рыболовство;
сбор орехов, грибов и ягод; полеводство.*

**Тест по теме:
"Зона лесов" - 2-3 группа**

1. Выбери правильный ответ и дополни предложение.

Лесная зона расположена к югу от _____.

В зоне широколиственных лесов растут _____,

_____.

В тайге растут _____, _____, _____, _____.

(*тундра ель пихта дуб кедр клен липа сосна*)

2. Пользуясь картой, выбери правильный ответ.

Какие географические объекты находятся в лесной зоне.

- | | |
|---------------------------------|-----------------|
| А) Восточно-Европейская равнина | Б) горы Кавказ |
| Западно-Сибирская равнина | полуостров Ямал |
| Уральские горы | река Печора |
| река Обь | озеро Байкал |

3. Прочитай названия животных. Зачеркни лишнее в каждом ряду. Дай общее название оставшимся животным, пользуясь словами для справок.

Тигр, лось, белка, заяц _____

Лисица, волк, заяц, рысь _____

Соболь, горноста́й, куница, медведь _____

Слова для справок: хищники травоядные всеядные пушные

4. Подчеркни одной чертой названия животных лесной зоны.

Тюлень, волк, медведь, песец, бобр, лемминг, косуля, росомаха, лось.

5. Пользуясь картой выбери и подчеркни города лесной зоны.

Москва, Мурманск, Сургут, Волгоград, Санкт-Петербург, Новосибирск, Астрахань, Новгород, Ярославль, Иркутск, Норильск, Хабаровск.

6. Выбери правильный ответ и дополни предложения.

Западная Сибирь-главная база по добыче _____ и газа.

Центральная Россия- старейший _____ край.

Основная отрасль промышленности Северо-Западной России- _____.

Восточная Сибирь- один из _____ районов России.

Дальний Восток- это главный район _____ промышленности.

(*нефти, текстильный, машиностроение, рыбной, малозаселенных*)

7. Подчеркни промыслы, коренных жителей Сибири.

***охота на пушного зверя; овцеводство; оленеводство; рыболовство;
сбор орехов, грибов и ягод; полеводство.***

**Тест по теме:
"Зона степей"- 1 группа**

1. Вставь в текст пропущенные слова.

Степь - это _____, _____ пространство, покрытое _____ растительностью, приспособленной к _____ климату.

2. Подчеркни, в каком поясе освещенности располагается зона степей.

жаркий, южный умеренный, северный полярный, северный умеренный, южный умеренный.

3. Прочитай названия растений. Какое из них в каждом ряду лишнее? Почему?

Подорожник, типчак, гусиный лук, ковыль. _____

Полынь, мятлик, солянка, лишайник. _____

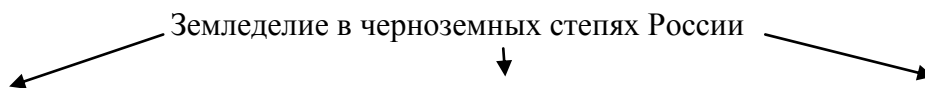
4. Выбери правильный ответ и подчеркни его.

Как животные приспособились к жизни в степях?

быстро бегают, прячутся на деревьях, делают запасы на зиму, строят берлоги, прячутся в норках, впадают в спячку, имеют толстый слой жира, оперение птиц и мех зверей окрашены под цвет почвы и травы.

5. Каким обобщающим словом можно назвать сусликов, хомяков, сурков, тушканчиков?

6. Укажи причины, способствующие занятию земледелием в черноземных степях.



7. Перечисли отрасли животноводства. Закончи предложения.

Отрасли животноводства, которые занимаются разведением овец называются _____

_____, разведением лошадей _____, разведением свиней

_____, разведением коров _____.

8. Подчеркни отрасли пищевой промышленности степной зоны.

машиностроение, мукомольная, текстильная, маслобойная, кондитерская, кожевенная, консервная, огородничество, мясо-молочная, обувная.

9. Выбери и подчеркни города степной зоны.

Ставрополь, Москва, Воронеж, Ростов-на-Дону, Сургут, Хабаровск, Краснодар, Оренбург, Самара, Новосибирск.

**Тест по теме:
"Зона степей" - 2-3 группа**

1. Выбери правильный ответ и вставь в текст пропущенные слова.

Степь - это _____, _____ пространство, покрытое _____ растительностью, приспособленной к _____ климату.

(болотистое, безлесное, равнинное, древесной, травянистой, разнообразной, жаркому, засушливому, влажному.)

2. Выбери правильный ответ. Зона степей расположена

- А) Между зоной лесов и зоной тундры
- Б) Между зоной лесов и зоной пустынь

3. Прочитай названия растений. Какое из них в каждом ряду лишнее? Подчеркни его.

Береза, тигр, гусиный лук, ковыль.

Полынь, мятлик, солянка, лишайник.

4. Выбери правильный ответ и подчеркни его.

Как животные приспособились к жизни в степях?

быстро бегают, прячутся на деревьях, делают запасы на зиму, строят берлоги, прячутся в норках, впадают в спячку, имеют толстый слой жира, оперение птиц и мех зверей окрашены под цвет почвы и травы.

5. Каким обобщающим словом можно назвать сусликов, хомяков, сурков, тушканчиков? Выбери правильный ответ и запиши.

(бегуны, хищники, грызуны)

6. Распредели отрасли сельского хозяйства и отрасли промышленности.

машиностроение, свиноводство, садоводство, текстильная, кожевенная, земледелие, швейная, коневодство, обувная, овцеводство.

Сельское хозяйство

Промышленность

7. Подчеркни города степной зоны, используя карту природных зон.

Ставрополь, Москва, Воронеж, Ростов-на-Дону, Сургут, Хабаровск, Краснодар, Оренбург, Самара, Новосибирск.

**Тест по теме
"Зона полупустынь и пустынь"- 1 группа**

1. Дополни предложение.

Обширное пространство земли с бедной растительностью, вызванной безводьем,-
это _____.

Зона полупустынь и пустынь находится на юго-востоке _____
_____ равнины.

Участок пустынь и полупустынь с обильным увлажнением и богатой
растительностью называется _____.

2. Выбери правильные ответы и подчеркни. Какой климат характерен для зоны пустынь?

А) Лето долгое и жаркое

Б) Температура воздуха в летние дни достигает иногда в тени +50

В) Зима длинная и теплая

Г) Зима непродолжительная, но холодная с сильными ветрами и метелями

Д) Летом часто идут морозящие дожди со снегом

3. Определи, какое растение и животное лишнее в каждом ряду. Почему? Напиши ответ.

Липа, саксаул, сосна, дуб, береза _____

Типчак, тонконог, верблюжья колючка, чертополох _____

Лемминг, песец, верблюд, северный олень _____

Белый медведь, сайгак, тюлень, морж _____

4. Выбери правильный ответ и подчеркни его. Как растения приспособились к жизни в пустыне?

Имеют короткие корни, расположенные близко к поверхности; имеют длинные корни; листья превратились в колючки или в чешуйки; карликовые деревья; деревья с хорошо развитой кроной; листья длинные и тонкие, как хвоинки.

5. Допиши названия культур, выращиваемых в зоне полупустынь.

Зерновые _____

Бахчевые _____

Овощные _____

6. Какие отрасли сельского хозяйства развиты в полупустынях? Допиши слова.

_____ ВОДСТВО _____ ВОДСТВО

_____ ВОДСТВО _____ ВОДСТВО

_____ ВОДСТВО _____ ВОДСТВО

7. Определи, о каком городе идет речь и запиши ответ. Используй карту.

Крупный город зоны полупустынь и пустынь. Находится на берегу реки Волги, является центром рыбной промышленности Поволжья и юга России.

Тест по теме
"Зона полупустынь и пустынь" - 2-3 группа

1. Выбери правильное определение и дополни предложение.

Обширное пространство земли с бедной растительностью, вызванной безводьем, - это _____.

Зона полупустынь и пустынь находится на юго-востоке _____
_____ равнины.

Участок пустынь и полупустынь с обильным увлажнением и богатой растительностью называется _____.

(степь, пустыня, оазис, Восточно-Европейской, Западно-Сибирской, полупустыня)

2. Выбери правильные ответы и подчеркни. Какой климат характерен для зоны пустынь?

А) Лето долгое и жаркое

Б) Температура воздуха в летние дни достигает иногда в тени +50

В) Зима длинная и теплая

Г) Зима непродолжительная, но холодная с сильными ветрами и метелями

Д) Летом часто идут морозящие дожди со снегом

3. Определи, какое растение лишнее в каждом ряду. Подчеркни его.

Липа, саксаул, сосна, дуб, береза

Типчак, тонконог, верблюжья колючка, чертополох

Лемминг, песок, верблюд, северный олень

Белый медведь, сайгак, тюлень, морж

4. Выбери правильный ответ и подчеркни его. Как растения приспособились к жизни в пустыне?

Имеют короткие корни, расположенные близко к поверхности; имеют длинные корни; листья превратились в колючки или в чешуйки; карликовые деревья; деревья с хорошо развитой кроной; листья длинные и тонкие, как хвоинки.

5. Выбери и запиши названия культур, выращиваемых в зоне полупустынь.

Зерновые _____

Бахчевые _____

Овощные _____

(помидоры, арбузы, пшеница, кукуруза, дыни, огурцы, рис, ячмень, картофель)

6. Определи, о каком городе идет речь и запиши ответ. Используй карту.

Крупный город зоны полупустынь и пустынь. Находится на берегу реки Волги, является центром Астраханской области и центром рыбной промышленности.

Тест по теме

"Зона субтропиков. Высотная поясность"- 1 группа

1. О каких природных зонах говорится в тексте? Запиши ответ.

Лето влажное, а зима сухая. Вечнозеленые растения: магнолия, камфорный лавр- приспособились к зимней сухости. Зима благоприятна для выращивания риса, чая, цитрусовых. _____

Мы шли по извилистой дороге, которая поднималась все выше и выше, казалось, что вела на небо. Снег хрустел под ногами, воздух становился таким редким, что было трудно дышать. _____

2. Какое растение и животное лишнее в каждом ряду? Выбери и подчеркни. Почему? Запиши ответ.

Мхи, бамбук, водоросли, лишайники _____

Береза, черемуха, пальма, осина _____

Магнолии, полынь, типчак, чертополох _____

Лисица, лось, горный козел, бурый медведь _____

Суслик, ящерица, снежный барс, черепаха _____

3. Каким обобщающим словом можно назвать эти растения? Запиши ответ.

Мандарины, апельсины, лимоны - это _____

4. Напиши названия горных систем России _____

5. Выбери и подчеркни неблагоприятные стороны природных условий горных областей.

Мало удобных для обработки земель; удобные территории для выращивания зерновых культур; богаты полезными ископаемыми; сходят снежные лавины; после ливневых дождей или таяния снега возникают сели; много пастбищ для животных.

6. Замените высказывания одним словом.

Народы, живущие в горных районах, называют _____ .

Жилище горцев называют _____ .

Горные поселки на Кавказе называют _____ .

7. Прочитай внимательно текст, о горных территориях. Найди ошибки в тексте и подчеркни их.

Сухое и жаркое лето. Холодная зима. Склоны гор покрыты лесами. На сочных высокогорных пастбищах все лето до осени пасутся отары овец, стада коз, коров, яков. Сыпучие пески соседствуют с каменистыми россыпями. Типичное растение- саксаул.

8. Замени выражения одним словом. Основные занятия жителей гор и субтропиков.

Выращивание винограда _____

Изготовление ковров _____

Разведение овец _____

Выращивание чая _____

Тест по теме

"Зона субтропиков. Высотная поясность"- 2-3 группа

1. О каких природных зонах говорится в тексте? Выбери правильный ответ и запиши.

Лето влажное, а зима сухая. Вечнозеленые растения: магнолия, камфорный лавр-приспособились к зимней сухости. Зима благоприятна для выращивания риса, чая, цитрусовых. _____

Мы шли по извилистой дороге, которая поднималась все выше и выше, казалось, что вела на небо. Снег хрустел под ногами, воздух становился таким редким, что было трудно дышать. _____

(высотная поясность, зона субтропиков)

2. Какое растение лишнее в каждом ряду? Выбери и подчеркни.

Мхи, бамбук, водоросли, лишайники

Береза, черемуха, пальма, осина

Магнолии, полынь, типчак, чертополох

Лисица, лось, горный козел, бурый медведь

Суслик, ящерица, снежный барс, черепаха

3. Каким обобщающим словом можно назвать эти растения? Выбери правильный ответ и запиши.

Мандарины, апельсины, лимоны - это _____

(дикорастущие, цитрусовые, культурные)

4. Расположи горные системы России в порядке увеличения высоты.

горы Алтай, Уральские горы, Кавказские горы, горы Саяны

1. _____

3. _____

2. _____

4. _____

5. Выбери и подчеркни неблагоприятные стороны природных условий горных областей.

Мало удобных для обработки земель; удобные территории для выращивания зерновых культур; богаты полезными ископаемыми; сходят снежные лавины; после ливневых дождей или таяния снега возникают сели; много пастбищ для животных.

6. Заменяй высказывания одним словом. Выбери правильный ответ и запиши.

Народы, живущие в горных районах, называют _____.

Жилище горце называют _____.

Горные поселки на Кавказе называют _____.

(горные жители, сакля, горцы, аул, деревня)

7. Выбери правильный ответ и замени выражения одним словом. Основные занятия жителей гор и субтропиков.

Выращивание винограда _____

Изготовление ковров _____

Разведение овец _____

(ковроткачество, виноградарство, садоводство, овцеводство, животноводство)

Итоговый тест «География России». 1 группа.

1. Определи, о какой природной зоне идет речь. Запиши название природной зоны.

Какая ширь, раздолье! Ни холмов, ни леса. До самого края неба простирается гладкая равнина. А сколько цветов! И все разные - и алые гвоздики, и яркие тюльпаны, и ирисы.

Здесь длинная суровая зима и совсем короткое лето. Но лето особенное: солнце светит днем и ночью. В бескрайней ледяной пустыне можно увидеть белых медведей.

Климат умеренный. Большое пространство занято лиственными и хвойными лесами, в которых обитает большое количество животных.

Территория сильно заболочена. Древесная растительность почти отсутствует. Встречаются большие стада северных оленей.

Это край плодовых садов, в которых растут груши, абрикосы и персики. А на склоны гор заняты виноградниками.

Мы шли по тропинке, по обе стороны которой была сухая выгоревшая трава и барханы, поднимающиеся все выше и выше.

2. Запиши природные зоны по порядку, в направлении с севера на юг.

1. _____

4. _____

2. _____

5. _____

3. _____

6. _____

3. Запиши название природных зон, в которых обитают данные животные и растут растения.

Мхи, морошка, карликовая березка _____

Ковыль, типчак, чертополох _____

Лось, белка, кабан, бобр _____

Белый медведь, тюлень, морж _____

Мандарины, апельсины, виноград _____

Верблюды, сайгак, тушканчик _____

4. Выбери правильный ответ и дополни предложения.

(оленоводство, земледелие, охота, виноградарство, рыбный промысел, лесозаготовка и переработка леса, бахчеводство)

В зоне арктических пустынь население занимается _____.

Благоприятный климат субтропиков способствует занятию _____.

В зоне тундры развито _____.

Лесная зона главная территория по _____.

Основное занятие населения в степной зоне- _____.

Зона пустынь славится астраханскими арбузами, поэтому там развито _____.

5. Дополни предложения.

Территория нашего округа расположена в зоне _____.

Наш край богат _____, поэтому здесь развито _____.

Итоговый тест. 2-3 группа.

(при выполнении заданий пользуйся атласом)

1. Определи, о какой природной зоне идет речь. Запиши название природной зоны.

Какая ширь, раздолье! Ни холмов, ни леса. До самого края неба простирается гладкая равнина. А сколько цветов! И все разные- и алые гвоздики, и яркие тюльпаны, и ирисы.

Здесь длинная суровая зима и совсем короткое лето. Но лето особенное: солнце светит днем и ночью. В бескрайней ледяной пустыне можно увидеть белых медведей.

Климат умеренный. Большое пространство занято лиственными и хвойными лесами, в которых обитает большое количество животных.

Территория сильно заболочена. Древесная растительность почти отсутствует. Встречаются большие стада северных оленей.

Это край плодовых садов, в которых растут груши, абрикосы и персики. А на склоны гор заняты виноградниками.

Мы шли по тропинке, по обе стороны которой была сухая выгоревшая трава и барханы, поднимающиеся все выше и выше.

2. Запиши природные зоны по порядку, в направлении с севера на юг.

- | | |
|----------|----------|
| 1. _____ | 4. _____ |
| 2. _____ | 5. _____ |
| 3. _____ | 6. _____ |

3. Запиши название природных зон, в которых обитают данные животные и растут растения.

Мхи, морошка, карликовая березка _____

Ковыль, типчак, чертополох _____

Лось, белка, кабан, бобр _____

Белый медведь, тюлень, морж _____

Мандарины, апельсины, виноград _____

Верблюды, сайгак, тушканчик _____

4. Выбери правильный ответ и дополни предложения.

(оленоводство, земледелие, охота, виноградарство, рыбный промысел, лесозаготовка и переработка леса, бахчеводство)

В зоне арктических пустынь население занимается _____.

Благоприятный климат субтропиков способствует занятию _____.

В зоне тундры развито _____.

Лесная зона главная территория по _____.

Основное занятие населения в степной зоне- _____.

Зона пустынь славится астраханскими арбузами, поэтому там развито _____.


5. Выбери правильный ответ и дополни предложения.

Территория нашего округа расположена в зоне _____.

Наш край богат _____, поэтому здесь развито _____.

(лесов, полезными ископаемыми, лесозаготовка, лесами, полями, земледелие)

**География материков и океанов.
Государств Евразии
8 класс**



**Тест по теме
"Африка"
1 группа**

1. Дополни предложение

Африка находится в _____ полушарии

2. Напиши название морей и океанов, омывающих Африку



3. Прочитай название животных тропических лесов. Найди лишнее и зачеркни его.

Бегемот, крокодил, лось, носорог.

4. Найди три ошибки в тексте и зачеркни их.

В саванне много высокой (до 4м) густой травы. В одиночку или отдельными группами возвышаются деревья: баобабы, дубы, клены. Много в саванне акаций и берез. Сезон дождей сменяется сухим сезоном. Иссущающий ветер приносит песчаную пыль и снег. Травы высыхают. Деревья сбрасывают листву.

5. Река на западе Африки, впадающая в Гвинейский залив.

А) Нигер Б) Нил

6. Самая длинная река Африки _____

7. Дополни предложение.

_____ одна из самых больших и жарких пустынь земного шара. Она находится на севере Африки.

8. Дополни предложения.

Тропическая лесостепь Африки называется _____

Самая засушливая зона Африки называется _____

9. Население Африки относится

А) К негроидной и европеидной расе

Б) К монголоидной и негроидной расе

**Тест по теме:
"Африка"- 2-3 группа**

1. Выбери правильный ответ и дополни предложение

Африка находится в _____ полушарии
(*западном* *восточном*)

2. Используя карту напиши название морей и океанов, омывающих Африку.



3. Выполни задание, пользуясь картой. Какое животное не обитает в тропических лесах Африки. Подчеркни его.

Бегемот, крокодил, лось, носорог, слон.

4. Найди три ошибки в тексте и зачеркни их.

В саванне много высокой (до 4м) густой травы. В одиночку или отдельными группами возвышаются деревья: баобабы, дубы, клены. Много в саванне акаций и берез. Сезон дождей сменяется сухим сезоном. Иссущающий ветер приносит песчаную пыль и снег. Травы высыхают. Деревья сбрасывают листву.

5. Река на западе Африки, впадающая в Гвинейский залив.

А) Нигер Б) Нил

6. Самая длинная река Африки _____

7. Дополни предложение, используя карту.

_____ одна из самых больших и жарких пустынь земного шара. Она находится на севере Африки.

8. Выбери правильный ответ и дополни предложения.

Тропическая лесостепь Африки называется _____

Самая засушливая зона Африки называется _____

(*саванна* *тайга* *пустыня* *степь*)

9. Подчеркни правильный ответ. В Африке проживают: *негры, пигмеи, монголы, бушмены, малагасийцы, русские, египтяне, алжирцы, американцы.*

**Тест по теме
"Австралия"-1 группа**

1. В каком полушарии расположена Австралия?

- А) В восточном полушарии к северу от экватора
- Б) В западном полушарии к югу от экватора
- В) В западном полушарии к северу от экватора
- Г) В восточном полушарии к югу от экватора

2. Подчеркни правильный ответ. Какие океаны омывают Австралию

Тихий, Атлантический, Индийский, Северный Ледовитый

3. Какие острова лежат на северо-востоке от Австралии? _____
на юге ? _____, на юго-востоке ? _____

4. Как называется главная река Австралии? Подчеркни правильный ответ.

Волга, Дарлинг, Муррей, Рейн

5. Дополни предложение.

Большая часть материка находится в тропическом поясе и имеет недостаточное увлажнение, поэтому Австралия самый _____ материк на земном шаре.

6. Что в Австралии называется скрэбом?

- А) Заросли колючих непроходимых кустарников
- Б) Разновидность эвкалипта
- В) Древовидные папоротники

7. Прочитай названия животных Австралии. Найди лишнее и зачеркни его.

Кенгуру Утконос Слон Ехидна Коала

8. Кто из перечисленных животных Австралии является сумчатым? Подчеркни правильный ответ.

Коала Кенгуру Варан Утконос Лирохвост

9. Прочитай название растений Австралии. Найди лишнее и зачеркни его.

Эвкалипт, пальма, финиковая пальма, скрэб, травяное дерево

10. Найди в тексте 2 ошибки и исправь (напиши наверху правильный ответ)

Население Австралии по составу делится на коренное и пришлое. Коренное население - негры. Это темнокожие люди с черными, вьющимися волосами. К пришлому населению относятся африканцы, которые в настоящее время составляют основное население Австралии.

**Тест по теме
"Австралия"-2-3 группа**

1. В каком полушарии расположена Австралия?

Б) В западном полушарии к югу от экватора

Г) В восточном полушарии к югу от экватора

2. Подчеркни правильный ответ. Какие океаны омывают Австралию

Тихий, Атлантический, Индийский, Северный Ледовитый

3. Самый большой остров на северо-востоке Австралии

А) Новая Гвинея

Б) Тасмания

4. Как называется главная река Австралии? Подчеркни правильный ответ.

Волга Дарлинг Нил Рейн

5. Выбери правильный ответ и дополни предложение.

Большая часть материка находится в тропическом поясе и имеет недостаточное увлажнение, поэтому Австралия самый _____ материк на земном шаре.

(жаркий, засушливый)

6. Что в Австралии называется скрэбом?

А) Заросли колючих непроходимых кустарников

Б) Разновидность эвкалипта

В) Древовидные папоротники

7. Прочитай названия животных Австралии. Найди лишнее и зачеркни его.

Кенгуру Утконос Слон Ехидна Коала

8. Кто из перечисленных животных Австралии является сумчатым? Подчеркни правильный ответ.

Коала Кенгуру Варан Утконос Лирохвост

9. Прочитай название растений Австралии. Найди лишнее и зачеркни его.

Эвкалипт, пальма, дуб, скрэб, травяное дерево

10. Найди в тексте 2 ошибки и исправь. (Выбери правильный ответ и напиши наверху)

Население Австралии по составу делится на коренное и пришлое. Коренное население негры. Это темнокожие люди с черными, вьющимися волосами. К пришлому населению относятся африканцы, которые в настоящее время составляют основное население Австралии.

(европейцы, аборигены)

**Тест по теме
"Северная Америка"-1 группа**

1. Дополни предложение.

Материк Северная Америка расположен в _____ полушарии к _____ от экватору.

2. Подчеркни правильный ответ.

Какой пролив разделяет Евразию и Северную Америку?

Гибралтарский Дрейка Берингов Магелланов

Какие горы находятся в Северной Америке?

Карпаты Анды Кордильеры Уральские

3. Выбери правильный ответ и подчеркни.

Какая река является главной в Северной Америке?

Миссисипи Ниагара Колорадо

4. Определите: о каком климатическом поясе идет речь?

Мы оказались там, где большие пространства, лишённые растительности, сменяются вечнозелеными лесами, в которых растет много разных видов пальм.

На смену тропическим вечнозеленым лесам пришли густые хвойные и широколиственные леса. В их зарослях можно встретить медведей, волков, а на опушках пасутся стада пугливых оленей. _____

И вдруг мы оказались там, где большую часть года стоят сильные морозы. А из-за многолетней мерзлоты практически отсутствует растительность, остались только мхи и лишайники. _____

5. Подчеркни правильный ответ.

Как называются хвойные деревья- великаны, растущие в Калифорнии?

Баобаб Дуб Секвойя Кедр

Какие животные живут на острове Гренландия?

Северные олени Белые медведи Овцебыки Кенгуру

6. Дополни предложение.

Коренное население Северной Америки - это _____ и _____.

7. Подчеркни правильный ответ.

Какая страна расположена в центральной части Северной Америки?

Мексика Канада США Панама

Какая страна занимает северную часть материка Северная Америка?

США Мексика Куба Канада

**Тест по теме
"Северная Америка"-2-3 группа**

1. Выбери правильный ответ и дополни предложение.

Материк Северная Америка расположен в _____ полушарии к _____ от экватору.

(*западном* *восточном* *к югу* *к северу*)

2. Подчеркни правильный ответ.

Какой пролив разделяет Евразию и Северную Америку?

Гибралтарский *Дрейка* *Берингов* *Магелланов*

Какие горы находятся в Северной Америке?

Карпаты *Анды* *Кордильеры* *Уральские*

3. Выбери правильный ответ и подчеркни.

Какая река является главной в Северной Америке?

Миссисипи *Ниагара* *Колорадо*

4. О каком климатическом поясе идет речь? Выбери и допиши ответ.

Мы оказались там, где большие пространства, лишённые растительности, сменяются вечнозелеными лесами, в которых растет много разных видов пальм.

На смену тропическим вечнозеленым лесам пришли густые хвойные и широколиственные леса. В их зарослях можно встретить медведей, волков, а на опушках пасутся стада пугливых оленей. _____

И вдруг мы оказались там, где большую часть года стоят сильные морозы. А из-за многолетней мерзлоты практически отсутствует растительность, остались только мхи и лишайники. _____

(*арктический, тропический, субтропический, экваториальный, умеренный*)

5. Подчеркни правильный ответ.

Как называются хвойные деревья- великаны, растущие в Калифорнии?

Баобаб *Дуб* *Секвойя* *Кедр*

Какие животные живут на острове Гренландия?

Северные олени *Белые медведи* *Овцебыки* *Кенгуру*

6. Выбери правильный ответ и дополни предложение.

Коренное население Северной Америки- это _____ и _____.

(*эскимосы* *аборигены* *индейцы* *чукчи*)

7. Подчеркни правильный ответ.

Какая страна расположена в центральной части Северной Америки?

Мексика *Канада* *США* *Панама*

Какая страна занимает северную часть материка Северная Америка?

США *Мексика* *Куба* *Канада*

**Тест по теме
"Южная Америка"-1 группа**

1. Дополни предложение.

Материк Южная Америка расположен в _____ полушарии к _____ от экватору.

2. Найди в тексте две ошибки и исправь их. Напиши правильный ответ.

Очертания берегов Южной Америки напоминают Австралию. _____
Южную Америку омывают два океана - Индийский и Атлантический. _____

3. Подчеркни правильный ответ.

Какой пролив отделяет Южную Америку от Антарктиды?

Магелланов Дрейка Гибралтарский

Какой пролив отделяет Южную Америку от острова Огненная Земля?

Панамский Перуанский Магелланов

Какое море находится на севере Южной Америки?

Карибское Черное Средиземное

4. Реши географическую задачу, пользуясь атласом.

Во время путешествия две яхты должны были попасть из Атлантического океана в Тихий.

Каждая яхта выбрала свой маршрут. Первая поплыла на север, вторая поплыла на юг.

Определи: через какие проливы или каналы яхты попали в Тихий океан.

1-я яхта прошла через _____

2-я яхта прошла через _____

5. Дополни предложение

Самая большая река Южной Америки _____

Самая длинная горная система мира, расположенная в Южной Америке _____

6. Подчеркни только те названия растений, которые растут в тропических лесах.

Масличная пальма Яблоня Фигус Какао Береза

7. Подчеркни только те названия животных, которые обитают в саваннах.

Броненосцы гривистый волк обезьяны лоси вискачи

8. Соедини стрелкой природную зону и растительность, характерную для нее.

Полупустыни

Буковые леса

Саванны

Колючие вечнозеленые кустарники

Горы

Травы (ковыль, дикое просо и др.)

9. Выбери самую крупную страну Южной Америки по площади и количеству населения.

Колумбия Бразилия Аргентина Перу

**Тест по теме
"Южная Америка"-2-3 группа**

1. Выбери правильный ответ и дополни предложение.

Материк Южная Америка расположен в _____ полушарии к _____ от экватора.

(*западном восточном к югу к северу*)

2. Пользуясь картой найди в тексте две ошибки и исправь их. Напиши правильный ответ.

Очертания берегов Южной Америки напоминают Австралию. _____
Южную Америку омывают два океана - Индийский и Атлантический. _____

3. Пользуясь картой найди правильный ответ и подчеркни его.

Какой пролив отделяет Южную Америку от Антарктиды?

Магелланов Дрейка Гибралтарский

Какой пролив отделяет Южную Америку от острова Огненная Земля?

Панамский Перуанский Магелланов

Какое море находится на севере Южной Америки?

Карибское Черное Средиземное

4. Пользуясь картой найди правильный ответ и дополни предложение.

Самая большая река Южной Америки _____

Самая длинная горная система мира, расположенная в Южной Америке _____

5. Пользуясь картой найди правильный ответ.

Подчеркни только те названия растений, которые растут в тропических лесах.

Масличная пальма Яблоня Фигус Какао Береза

Подчеркни только те названия животных, которые обитают в саваннах.

Броненосцы гривистый волк обезьяны лоси вискачи

6. Найди правильный ответ и подчеркни его.

Родиной какого овоща является Южная Америка?

Картофель Помидор Гевея

Из сока какого растения производят каучук?

Картофель Помидор Гевея

Какой овощ привезен из Южной Америки и стал для европейцев "вторым хлебом"?

Картофель Помидор Гевея

7. Выбери самую крупную страну Южной Америки по площади и количеству населения.

Колумбия Бразилия Аргентина Перу

**Тест по теме
"Антарктида"- 1 группа**

1. Подчеркни правильный ответ.

Как называется самый холодный материк?

Африка Северная Америка Австралия Антарктида

2. Выбери из скобок нужное слово и вставь в предложение.

Антарктида является самым _____ (северным, южным, западным, восточным) материком Земли.

3. Подчеркни правильный ответ.

Воды каких океанов омывают берега Антарктиды?

Тихий Атлантический Индийский Северный Ледовитый

Как называется точка, расположенная в центре Антарктиды?

Северный полюс Западный полюс Южный полюс

В какой части Антарктиды находится полюс холода?

В северной части В восточной части В южной части В западной части

4. Реши географическую задачу.

Средняя температура в Антарктиде летом $-60 - 30 = -$, а зимой $-80 - 10 =$.
 $50\% + 48\% =$ % поверхности Антарктиды покрыто льдом. Толщина снежного пласта на Южном полюсе $2000 + 800 \text{ м} =$ м.

5. Вставь пропущенное слово.

Чайки, поморники, пингвины, альбатросы, буревестники - это морские _____ Антарктиды.

6. Определи, кто лишний. Подчеркни.

Тюлень Синий кит Белый медведь Пингвин
Поморник Буревестник Чайки Попугай

7. Выбери и подчеркни правильный ответ.

Планктон - это:

Мелкие растительные и животные организмы

Ледяная гора

Морская птица

8. Подчеркни те высказывания, которые относятся к Антарктиде.

Антарктида - самый жаркий материк.

Антарктида покрыта толстым слоем льда.

Антарктида - самый большой материк земного шара.

Растительный и животный мир Антарктиды самый бедный на земном шаре.

**Тест по теме
"Антарктида"- 2-3 группа**

1. Подчеркни правильный ответ.

Как называется самый холодный материк?

Африка Северная Америка Австралия Антарктида

2. Выбери из скобок нужное слово и вставь в предложение.

Антарктида является самым _____ (северным, южным, западным, восточным) материком Земли.

3. Пользуясь картой найди правильный ответ и подчеркни его.

Воды каких океанов омывают берега Антарктиды?

Тихий Атлантический Индийский Северный Ледовитый

Как называется точка, расположенная в центре Антарктиды?

Северный полюс Западный полюс Южный полюс

В какой части Антарктиды находится полюс холода?

В северной части В восточной части В южной части В западной части

4. Выбери правильное слово из скобок и вставь.

Чайки, поморники, пингвины, альбатросы, буревестники - это морские _____ Антарктиды. (**животные птицы**)

5. Пользуясь картой определи, кто лишний. Подчеркни.

Тюлень Синий кит Белый медведь Пингвин
Поморник Буревестник Чайки Попугай

6. Выбери и подчеркни правильный ответ.

Планктон - это:

Мелкие растительные и животные организмы

Ледяная гора

Морская птица

7. Выбери правильный ответ и подчеркни.

Неуклюжая птица-обитатель Антарктиды.

планктон пингвин синий кит

Мелкие растительные и животные организмы

планктон пингвин синий кит

8. Подчеркни те высказывания, которые относятся к Антарктиде.

Антарктида - самый жаркий материк.

Антарктида покрыта толстым слоем льда.

Антарктида - самый большой материк земного шара.

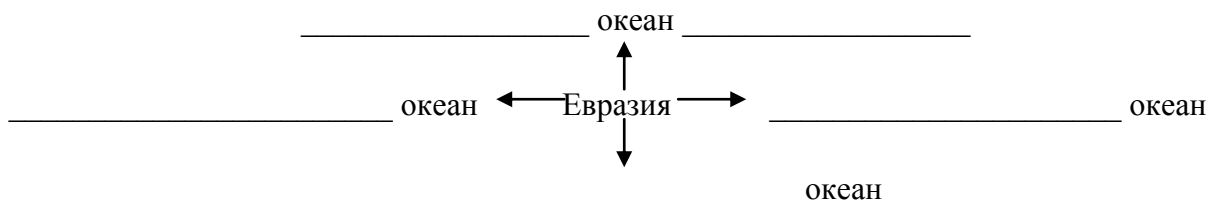
Растительный и животный мир Антарктиды самый бедный на земном шаре.

**Тест по теме
"Евразия"- 1 группа**

1. Дополни предложение:

Евразия находится в _____ полушарии, к северу от _____.

2. Какие океаны омывают материк? Заполни схему.



3. Выбери правильный ответ. В каких климатических поясах находится Евразия?

- | | |
|--------------------|-----------------|
| А) арктический | Б) арктический |
| северный умеренный | южный умеренный |
| субтропический | субтропический |
| тропический | тропический |
| субэкваториальный | экваториальный |

4. Выбери правильный ответ. Какие географические объекты находятся в Европе?

- | | |
|---------------------------|------------------------------|
| А) горы Алтай | Б) горы Альпы |
| Западно-Сибирская равнина | Восточно-Европейская равнина |
| озеро Байкал | Ладожское озеро |
| река Волга | река Енисей |

5. С помощью карты определи, о каких географических объектах говорится. Напиши их названия.

Полуостров между Беринговым и Охотским морями. _____

Пролив между Евразией и Северной Америкой. _____

По восточному склону этих гор проходит граница между Европой и Азией.

_____ Очертания этого полуострова, находящегося в Средиземном море, напоминает сапог.

_____ Залив на юге Евразии между полуостровами Индостан и Индокитай. _____

6. Подчеркни те растения, которые растут в тропических и субтропических лесах Азии.

магнолия, чай, береза, бамбук, пихта, банан, лиственница, кокосовая пальма, кедры.

7. Подчеркни животных тропических лесов.

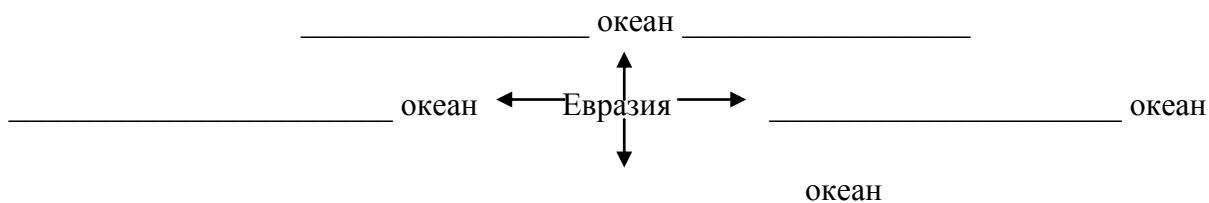
тигр, индийский слон, северный олень, антилопа, тюлень, панда, носорог, леопард, тюлень.

**Тест по теме
"Евразия"- 2 группа**

1. Выбери правильный ответ и дополни предложение:

Евразия находится в _____ полушарии, к _____ от экватора.
(*западном восточном к северу к югу*)

2. Какие океаны омывают материк? Заполни схему, используя карту.



3. Выбери правильный ответ. В каких климатических поясах находится Евразия?

- | | |
|--------------------|-----------------|
| А) арктический | Б) арктический |
| северный умеренный | южный умеренный |
| субтропический | субтропический |
| тропический | тропический |
| субэкваториальный | экваториальный |

4. Пользуясь картой, выбери правильный ответ. Какие географические объекты находятся в Европе?

- | | |
|---------------------------|------------------------------|
| А) горы Алтай | Б) горы Альпы |
| Западно-Сибирская равнина | Восточно-Европейская равнина |
| озеро Байкал | Ладожское озеро |
| река Волга | река Енисей |

5. С помощью карты определи и выбери правильный ответ. О каких географических объектах говорится. Напиши их названия.

Полуостров между Беринговым и Охотским морями. _____

Пролив между Евразией и Северной Америкой. _____

По восточному склону этих гор проходит граница между Европой и Азией.

_____ Залив на юге Евразии между полуостровами Индостан и Индокитай. _____

(*Камчатка Уральские Берингов Бенгальский*)

6. Подчеркни те растения, которые растут в тропических и субтропических лесах Азии.

магнолия, чай, береза, бамбук, пихта, банан, лиственница, кокосовая пальма, кедр.

7. Подчеркни животных тропических лесов.

тигр, индийский слон, северный олень, антилопа, тюлень, панда, носорог, леопард, тюлень.

**Итоговый тест:
"Материки и океаны"- 1 группа.**

1. Запишите океаны в порядке увеличения их площади.

2. Реши географическую задачу, используя карту.

От острова Гренландия путешественники отправились сначала на юг, обогнули Южную Америку и взяли курс на запад. У берегов Австралии они сделали остановку, прошли вдоль ее южного побережья и продолжили путь в западном направлении. Обогнув южные берега Африки, поплыли на северо-восток и вернулись на остров Гренландия. Какие океаны пересекали путешественники?

1. _____ 3. _____
2. _____ 4. _____

3. О каком материке идет речь? Запишите название материка.

- Самый жаркий материк, среди всех материков земного шара. _____
- Самый маленький и самый засушливый материк на земном шаре. _____
- Это самый влажный материк, а также материк рекордов, т.к. там находится самая длинная горная система Анды, самая полноводная река Амазонка, самая большая Амазонская низменность . _____
- Самый холодный и самый высокий материк, так как там находится полюс холода и средняя высота ледяного панциря 2800м. _____
- Третий по площади материк. Расположен в северной части западного полушария.

- Это величайший материк земного шара. Состоит из двух частей света. Омывается всеми четырьмя океанами. _____

4. Распредели растения и животных по материкам.

баобаб, слон	Северная Америка
эвкалипт, кенгуру	Африка
секвойя, овцебык	Австралия
шоколадное дерево, ленивец	Евразия
лиственница, бурый медведь	Южная Америка

5. О каком географическом объекте идет речь? Используй карту.

- Одна из самых больших и жарких пустынь земного шара. _____
- Самый крупный остров у берегов Северной Америки. _____
- Самый длинный горный хребет на земном шаре, расположенный на материке западного полушария. _____
- Самая большая плоская равнина за Уральскими горами. _____

**Итоговый тест:
"Материки и океаны"- 2-3 группа.**

1. Пользуясь картой, запишите океаны в порядке увеличения их площади.(от маленького к большому)

1. _____ 3. _____
2. _____ 4. _____

2. Допиши предложения.

Самый холодный океан _____

Самый большой по площади океан _____

Океан, полностью лежащий в восточном полушарии _____

3. О каком материке идет речь? Выбери и запишите название материка.

- Самый жаркий материк, среди всех материков земного шара. _____

- Самый маленький и самый засушливый материк на земном шаре. _____

- Это самый влажный материк, а также материк рекордов, т.к. там находится самая длинная горная система Анды, самая полноводная река Амазонка, самая большая Амазонская низменность . _____

- Самый холодный и самый высокий материк, так как там находится полюс холода и средняя высота ледяного панциря 2800м. _____

- Третий по площади материк. Расположен в северной части западного полушария.

- Это величайший материк земного шара. Состоит из двух частей света. Омывается всеми четырьмя океанами. _____

(Африка, Северная Америка, Южная Америка, Австралия, Антарктида, Евразия)

4. Пользуясь картой, распредели растения и животных по материкам.

баобаб, слон	Северная Америка
эвкалипт, кенгуру	Африка
секвойя, овцебык	Австралия
шоколадное дерево, ленивец	Евразия
лиственница, бурый медведь	Южная Америка

5. О каком географическом объекте идет речь? Выбери правильный ответ и запиши.

- Одна из самых больших и жарких пустынь земного шара. _____

- Самый крупный остров у берегов Северной Америки. _____

- Самый длинный горный хребет на земном шаре, расположенный на материке западного полушария. _____

- Самая большая плоская равнина за Уральскими горами. _____

(Западно-Сибирская равнина, пустыня Сахара, горы Анды, остров Гренландия)

Тест по теме
"Государства Зарубежной Европы"- 1 группа

1. Дай общее название Европейским странам.

Франция, Германия, Великобритания - это страны _____

Испания, Италия, Греция - это страны _____

Норвегия, Швеция, Финляндия - это страны _____

Польша, Болгария, Румыния - это страны _____

2. О каком государстве идет речь. Пользуясь картой запиши ответ.

Островное государство на северо-западе Европы. Омывается водами Атлантического океана, называют страной "туманного" альбиона. _____

Расположено на Апеннинском полуострове, славится автомобилями марки "Фиат", бытовой техникой и мебелью. _____

Расположено на Скандинавском полуострове. Жители называют свою страну "путь на север", т.к. от нее только воды Северного Ледовитого океана. _____

Государство Восточной Европы, расположенное на Балканском полуострове. Название столицы государства схоже с женским именем. _____

3. Основные направления хозяйственной деятельности. Выбери и запиши правильный ответ. (*заготовка и обработка древесины, машиностроение, выращивание цитрусовых и оливковых деревьев*)

В странах Западной Европы _____.

В странах Южной Европы _____.

В странах Северной Европы _____.

4. Пользуясь картой, установи соответствие.

Островное

Италия

Великобритания

Полуостровное

Белоруссия

Греция

Внутриконтинентальное

Венгрия

5. Подчеркни правильный ответ.

К Скандинавским странам относятся:

Финляндия, Швейцария, Великобритания, Швеция, Чехия, Норвегия.

К Средиземноморским странам относятся:

Испания, Португалия, Греция, Германия, Италия, Австрия.

6. Рядом с соответствующими буквами напиши названия морей, омывающих восточноевропейский регион. Используй карту.

А _____

Б _____

А _____

Ч _____

Тест по теме
"Государства Зарубежной Европы"- 2-3 группа

1. Дай общее названия Европейским странам. Выбери и запиши правильный ответ.
(Восточная Европа, Западная Европа, Южная Европа, Северная Европа)

Франция, Германия, Великобритания-это _____

Испания, Италия, Греция - это _____

Норвегия, Швеция, Финляндия -это _____

Польша, Болгария, Румыния -это _____

2. О каком государстве идет речь. Выбери и запиши правильный ответ. Используй карту.

Островное государство на северо-западе Европы. Омывается водами Атлантического океана, называют страной "туманного " альбиона. _____

Расположено на Апенинском полуострове, славится автомобилями марки "Фиат", бытовой техникой и мебелью. _____

Расположено на Скандинавском полуострове. Жители называют свою страну "путь на север", т.к. от нее только воды Северного Ледовитого океана. _____

Государство Восточной Европы, расположенное на Балканском полуострове. Название столицы государства схоже с женским именем. _____

(Болгария, Великобритания, Норвегия, Италия)

3. Основные направления хозяйственной деятельности. Выбери и запиши правильный ответ. **(заготовка и обработка древесины, машиностроение, выращивание цитрусовых и оливковых деревьев)**

В странах Западной Европы _____.

В странах Южной Европы _____.

В странах Северной Европы _____.

4. Пользуясь картой, установи соответствие.

Островное

Италия

Великобритания

Полуостровное

Белоруссия

Греция

Внутриконтинентальное

Венгрия

5. Подчеркни правильный ответ. Используй карту.

К Скандинавским странам относятся:

Финляндия, Швейцария, Великобритания, Швеция, Чехия, Норвегия.

К Средиземноморским странам относятся:

Испания, Португалия, Греция, Германия, Италия, Австрия.

Тест по теме
"Государства Ближнего Зарубежья"- 1 группа.

1. Подчеркни государства Ближнего Зарубежья.

Армения, Франция, Белоруссия, Украина, Польша, Болгария, Молдавия, Латвия, Литва, Швеция, Эстония, Грузия, Норвегия, Азербайджан, Финляндия, Туркмения, Узбекистан, Казахстан, Румыния, Киргизия, Греция, Таджикистан.

2. Дополни предложения.

К государствам Балтии относятся _____.

К государствам Закавказья относятся _____.

К государствам Средней Азии относятся _____.

3. Установи соответствие

Выпускают тракторы "Беларусь"

Украина

Развито виноделие и садоводство

Находится на побережье Черного и Азовского морей

Молдавия

Выращивают лен

Развито рыболовство

Белоруссия

Столица Кишинев

4. Пользуясь картой, выбери правильный ответ и дополни предложения.

Самое крупное государство Средней Азии _____.

В Узбекистане главная сельскохозяйственная культура _____.

Ведущая отрасль животноводства Туркмении _____.

Типичные горные страны Средней Азии _____.

5. Пользуясь картой найди ошибку и подчеркни.

Страны Балтии расположены на западном побережье Балтийского моря. Эстония и Литва граничат на востоке с Россией. Столица Эстонии город Вильнюс, а столица Латвии Рига. Государственный язык Латвии литовский, а в Литве латышский.

6. Дополни предложения.

Рига, Вильнюс, Таллин - это _____.

Овцеводство, верблюдоводство, коневодство- это _____.

Грузинский, армянский языки- это _____.

Хлопководство, садоводство- это _____.

7. Определи и подпиши отрасли хозяйства стран Закавказья.



Тест по теме
"Государства Ближнего Зарубежья"- 2-3 группа.

1. Используя карту найди и подчеркни государства Ближнего Зарубежья..

Армения, Франция, Белоруссия, Украина, Польша, Болгария, Молдавия, Латвия, Литва, Швеция, Эстония, Грузия, Норвегия, Азербайджан, Финляндия, Туркмения, Узбекистан, Казахстан, Румыния, Киргизия, Греция, Таджикистан.

2. Дополни предложения. Используй карту.

К государствам Балтии относятся _____.

К государствам Закавказья относятся _____.

К государствам Средней Азии относятся _____.

3. Установи соответствие

Выпускают тракторы "Беларусь"

Украина

Развито виноделие и садоводство

Находится на побережье Черного и Азовского морей

Молдавия

Выращивают лен

Развито рыболовство

Белоруссия

Столица Кишинев

4. Выбери правильный ответ и дополни предложения.

(Таджикистан, хлопок, Казахстан, Киргизия, овцеводство)

Самое крупное государство Средней Азии _____.

В Узбекистане главная сельскохозяйственная культура _____.

Ведущая отрасль животноводства Туркмении _____.

Типичные горные страны Средней Азии _____.

5. Выбери правильный ответ и дополни предложения.

(столицы, растениеводство, государственные языки, животноводство)

Рига, Вильнюс, Таллин - это _____.

Овцеводство, верблюдоводство, коневодство- это _____.

Грузинский, армянский языки - это _____.

Хлопководство, садоводство - это _____.

6. Определи и подпиши отрасли хозяйства стран Закавказья.



Итоговый тест «Материки, океаны. Государства Евразии»

1 группа

1. Запиши океаны в порядке уменьшения их площади (от большого к маленькому)

1. _____ 3. _____
2. _____ 4. _____

2. Запиши названия материков западного и восточного полушария.

Западное полушарие

Восточное полушарие

3. Установи соответствие

Самый жаркий материк

Южная Америка

Самый сухой материк

Африка

Самый влажный материк

Евразия

Самый большой материк

Австралия

Третий по величине материк

Антарктида

Самый холодный и высокий

Северная Америка

4. Дай общее названия Европейским странам. Выбери и запиши правильный ответ.

Франция, Германия, Великобритания-это страны _____

Испания, Италия, Греция - это страны _____

Норвегия, Швеция, Финляндия - это страны _____

Польша, Болгария, Румыния - это страны _____

5. Подчеркни названия государств Ближнего Зарубежья.

*Украина, Польша, Белоруссия, Румыния, Эстония, Финляндия, Молдавия, Латвия,
Словакия, Литва, Грузия, Болгария, Казахстан.*

6. Распредели государства по указанным территориям.

*(Грузия, Латвия, Таджикистан, Эстония, Киргизия, Литва, Азербайджан,
Узбекистан, Армения, Туркмения)*

Государства Балтии _____

Государства Средней Азии _____

Государства Закавказья _____

7. С какими государствами граничит Россия?

Выбери правильный ответ и допиши предложения.

*(Украина, Эстония, Молдавия, Латвия, Узбекистан, Казахстан, Белоруссия,
Киргизия)*

Россия граничит с _____

Итоговый тест «Материки, океаны. Государства Евразии»
2-3 группа

1. Запиши океаны в порядке уменьшения их площади (от большого к маленькому)

Индийский, Тихий, Атлантический, Северный Ледовитый

1. _____ 3. _____
2. _____ 4. _____

2. Распредели материки по полушариям.

(Австралия, Евразия, Африка, Антарктида, Южная Америка, Северная Америка)

Западное полушарие

Восточное полушарие

3. Установи соответствие

Самый жаркий материк	Южная Америка
Самый сухой материк	Африка
Самый влажный материк	Евразия
Самый большой материк	Австралия
Третий по величине материк	Антарктида
Самый холодный и высокий	Северная Америка

4. Дай общее названия Европейским странам. Выбери и запиши правильный ответ.

(Восточная Европа, Западная Европа, Южная Европа, Северная Европа)

Франция, Германия, Великобритания-это _____

Испания, Италия, Греция - это _____

Норвегия, Швеция, Финляндия - это _____

Польша, Болгария, Румыния - это _____

5. Подчеркни названия государств Ближнего Зарубежья.

*Украина, Польша, Белоруссия, Румыния, Эстония, Финляндия, Молдавия, Латвия,
Словакия, Литва, Грузия, Болгария, Казахстан.*

6. Распредели государства по указанным территориям. Используй карту.

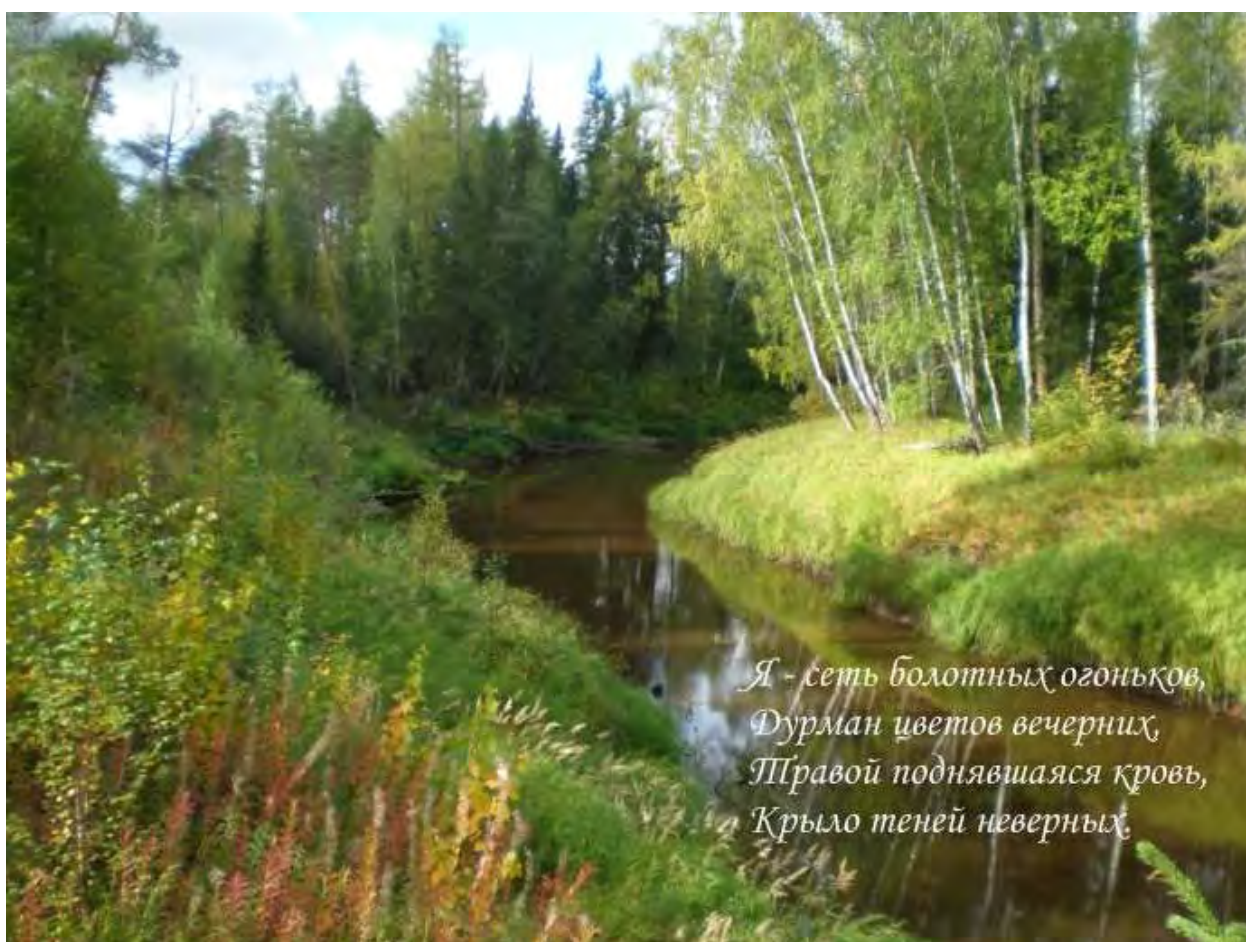
*(Грузия, Латвия, Таджикистан, Эстония, Киргизия, Литва, Азербайджан,
Узбекистан, Армения, Туркмения)*

Государства Балтии _____

Государства Средней Азии _____

Государства Закавказья _____

География ХМАО 9 класс



**Тест по теме:
" Любовь к Отчизне окрыляет сердца" - 1 группа**

1. Напишите полное название нашего округа

2. Допиши предложение.

Символами округа являются _____ и _____ .

3. Что означают цвета на гербе и флаге округа.

красный - _____

белый - _____

синий - _____

зеленый - _____

желтый - _____

4. В каком году был образован округ

А) 1930

Б) 2003

5. Дополни предложение.

ХМАО расположен на материке _____ . Территория округа находится в центре _____ равнины.

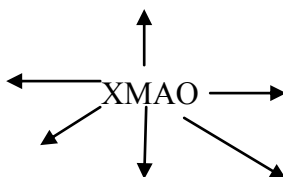
6. Сколько муниципальных районов входит в состав округа?

А) 6

Б) 9

В) 16

7. Подпиши названия субъектов РФ, с которыми граничит округ?



8. Дополни предложение. В состав какого субъекта РФ входит округ?

Округ входит в состав _____ области.

9. Дополни предложения.

Главным богатством округа являются _____ .

**Тест по теме:
" Любовь к Отчизне окрыляет сердца" 2 группа**

1. Напишите полное название нашего округа

2. Что означают цвета на гербе и флаге округа.

красный - _____

белый - _____

синий - _____

зеленый - _____

желтый - _____

3. В каком году был образован округ

А) 1930

Б) 2003

4. Выбери правильный ответ и дополни предложение.

ХМАО расположен на материке _____ . Территория округа находится в центре _____ равнины.

(Западно-Сибирская, Восточно-Европейская, Евразия, Европа)

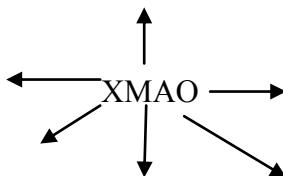
5. Сколько муниципальных районов входит в состав округа?

А) 6

Б) 9

В) 16

6. Выбери правильный ответ и подпиши названия субъектов РФ, с которыми граничит округ?



(Ямало-Ненецкий автономный округ, Томская область, Красноярский край, Тюменская область, Свердловская область, Республика Коми)

7. Дополни предложение. В состав какого субъекта РФ входит округ? Выбери правильный ответ и допиши предложение.

(Тюменская область, Томская область, Свердловская область)

Округ входит в состав _____ области.

8. Дополни предложения.

Главным богатством округа являются _____

**Тест по теме:
" Любовь к Отчизне окрыляет сердца" - 3 группа**

1.. Напишите полное название нашего округа

2. Что означают цвета на гербе и флаге округа. Выбери и допиши ответ.

(снег, лес, жизнь, вода, прошлое)

красный - _____

белый - _____

синий - _____

зеленый - _____

желтый - _____

3. В каком году был образован округ

А) 1930

Б) 2003

4. На какой равнине расположен округ?

А) Западно-Сибирской равнине

Б) Восточно - Европейской равнине

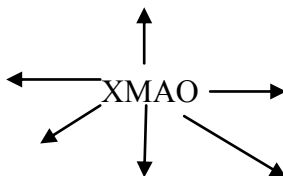
5. Сколько муниципальных районов входит в состав округа?

А) 6

Б) 9

В) 16

6. Выбери правильный ответ и подпиши названия субъектов РФ, с которыми граничит округ?



(Ямало-Ненецкий автономный округ, Томская область, Красноярский край, Тюменская область, Свердловская область, Республика Коми)

7. В состав какого субъекта Российской Федерации входит ХМАО?

А) Тюменской области

Б) Томской области

В) Свердловской области

8. Что является главным богатством округа?

А) нефть, газ

Б) лес, реки

Тест по теме
" Природа ХМАО"- 1 группа

1. Главной причиной сурового климата в округе является:

- А) расположение округа в северных широтах
- Б) горная поверхность

2. Назови особенности природных условий. Выбери правильный ответ и подчеркни его.

- А) Зима продолжается 5-6 месяцев
- Б) Длинное и жаркое лето
- В) Морозы стоят долго и иногда доходят до (-50)
- Г) Лето короткое и теплое
- Д) Солнце высоко поднимается над горизонтом и хорошо согревает поверхность
- Е) Резкая смена погоды во все сезоны год
- Ж) Влияние воздушных масс с Атлантики и Арктики

3. Выбери правильный ответ и допиши предложение.

С действием каких климатических факторов связаны следующие типы погоды:

В холодный период:

- сильное похолодание с ветрами _____
- потепление, снегопады, оттепель _____

В теплый период:

- заморозки весной и осенью _____
- теплая и сухая погода _____
- пасмурная погода с "обложным" дождем _____

(вторжение восточносибирских воздушных масс; арктических воздушных масс; атлантических воздушных масс; континентальных воздушных масс с юга)

4. В чем заключается главная особенность рек. Найди верный ответ и подчеркни его.

- А) основной источник питания рек - осадки
- Б) имеют большой уклон
- В) медленное течение и извилистое русло
- Г) короткое весенне-летнее половодье
- Д) растянутое весенне-летнее половодье
- Е) замерзают на длительный период
- Ж) содержат много органических веществ

5. Найди ошибки в предложениях и зачеркни их. Напиши правильный ответ.

В северной тайге растут больше лиственные деревья, а в южной - хвойные.

К темнлюбивым деревьям относятся ель, сосна, кедр. _____

Береза, осина, лиственница- это лиственные деревья. _____

6. Дополни предложение.

Заповедник- это место, где оберегаются, сохраняются _____
растения и животные.

**Тест по теме
"Природа ХМАО "- 2 группа**

1. Главной причиной сурового климата в округе является:

- А) расположение округа в северных широтах
- Б) горная поверхность

2. Назови особенности природных условий. Выбери правильный ответ и подчеркни его.

- А) Зима продолжается 5-6 месяцев
 - Б) Длинное и жаркое лето
 - В) Морозы стоят долго и иногда доходят до (-50)
 - Г) Лето короткое и теплое
 - Д) Солнце высоко поднимается над горизонтом и хорошо согревает поверхность
 - Е) Резкая смена погоды во все сезоны года
 - Ж) Влияние воздушных масс с Тихого океана
- 3) Влияние воздушных масс с Атлантики и Арктики

3. Установи соответствие. Что к чему относится?

- | | |
|---------|----------------------------------|
| Зима - | характерны "возвраты" холодов |
| Осень - | самое продолжительное время года |
| Лето - | листопад, отлет птиц |
| Весна - | сезон частой смены погоды |

4. Прочитай названия водоемов и дай общее название водоемам.

- Иртыш, Обь, Малая Сосьва- это _____
Самотлор, Туман, Нумто- это _____

5. Найди ошибки в предложениях и зачеркни их. Напиши правильный ответ.

В северной тайге растут больше лиственные деревья, а в южной хвойные.

К тёмнолюбивым деревьям относятся ель, сосна, кедр. _____
Береза, осина, лиственница- это лиственные деревья. _____

6. Выбери правильный ответ и дополни предложение.

Заповедник- это место, где оберегаются и сохраняются _____
растения и животные.

(ценные и редкие; красивые и часто встречающие)

7. Допиши предложения, выбрав правильный ответ.

Главное условие жизни в тайге для животных _____
(обходиться без воды; много пищи; возможность прятаться от врагов)

В тайге обитает много _____ животных.

(травоядных; хищных; земноводных)

**Тест по теме
"Природа ХМАО "-3 группа**

1. В каком климатическом поясе расположена территория ХМАО?

- А) умеренном
- Б) субтропическом
- В) арктическом

2. Каковы особенности природных условий. Выбери правильные ответы .

- А) Зима продолжается 5-6 месяцев
 - Б) Длинное и жаркое лето
 - В) Морозы стоят долго и иногда доходят до (-50)
 - Г) Лето короткое и теплое
 - Д) Солнце высоко поднимается над горизонтом и хорошо согревает поверхность
 - Е) Резкая смена погоды во все сезоны года
 - Ж) Влияние воздушных масс с Тихого океана
- 3) Влияние воздушных масс с Атлантики и Арктики

3. Какое время года в округе самое продолжительное?

- А) Осень
- Б) Зима
- В) Лето
- Г) Весна

4. Какие две крупные реки протекают по территории округа?

- А) Лена и Волга
- Б) Обь и Иртыш
- В) Енисей и Обь

5. Какие животные относятся к хищным? Выбери и подчеркни правильный ответ.

**Лось, лиса, олень, белка, медведь, глухарь, волк, соболь, россомаха, заяц, рысь, бобр,
тетерев, куница, горноста́й, рябчик**

6. Подпиши названия деревьев наших лесов.



7. Какие правила поведения в природе должен соблюдать каждый человек. Запиши правила поведения в природе. _____

**Тест по теме
"Экономика ХМАО"- 1 группа.**

1. Экономика округа отличается:

- А) Моноотраслевой (узкой) специализацией
- Б) Большим количеством разных отраслей промышленности

2. Дополни предложение.

На развитие экономики округа повлияли _____

3. Выбери правильный ответ и допиши предложения.

Ведущую роль в транспортировке нефти и газа играет _____ транспорт.

Самый древний вид транспорта _____ .

Ведущую роль в перевозке пассажиров играет _____ транспорт.

Основная перевозка грузов приходится на _____ и _____ транспорт.

4. Установи соответствие.

Электроэнергетика	лесной комплекс
строительство промышленных объектов	топливно-энергетический комплекс
газопереработка	комплекс
заготовка древесины	строительный комплекс
нефтедобыча	
механическая обработка древесины	
нефтепереработка	

5. Допиши слова, обозначающие отрасли сельского хозяйства в округе.

	ВОДСТВО

6. Дополни предложение.

Развитию сельского хозяйства мешают _____.

7. Выбери правильный ответ и дополни предложения.

Животноводство специализируется на разведении _____, _____, _____.

Растениеводство специализируется на выращивании _____, _____.

**Тест по теме
"Экономика ХМАО"- 2 группа.**

1. Выбери правильный ответ и дополни предложение.

На развитие экономики округа повлияли _____
(**природные условия** **природные ресурсы**)

2. Выбери правильный ответ и допиши предложения.

Ведущую роль в транспортировке нефти и газа играет _____
транспорт.

Самый древний вид транспорта _____ .

Ведущую роль в перевозке пассажиров играет _____
транспорт.

Основная перевозка грузов приходится на _____ и
_____ транспорт.

(железнодорожный, автомобильный, водный, трубопроводный, авиационный)

3. Установи соответствие.

Электроэнергетика	
строительство промышленных объектов	лесной комплекс
газопереработка	
заготовка древесины	топливно-энергетический
нефтедобыча	комплекс
механическая обработка древесины	
нефтепереработка	строительный комплекс

4. Выбери и допиши слова, обозначающие отрасли сельского хозяйства в округе.

	ВОДСТВО

*(свиноводство, пчеловодство, оленеводство, скотоводство, овцеводство, птицеводство,
звероводство, коневодство)*

5. Выбери правильный ответ и дополни предложения.

Животноводство специализируется на разведении _____,
_____, _____.

(коров, пчел, лошадей, оленей, рыб, зверей, свиней, лосей)

Растениеводство специализируется на выращивании _____,
_____.

(картофеля, пшеницы, кормовых культур, овощей, фруктов)

**Тест по теме
"Экономика ХМАО"- 3 группа.**

1. Выбери правильный ответ. Экономика округа развивается благодаря:

- А) Природным условиям (климату)
- Б) Природным ресурсам (нефти, газу, лесу)
- В) Большому количеству болот и лесов

2. Каким видом транспорта доставляют грузы в отдаленные уголки округа?

- А) Воздушным и железнодорожным
- Б) Трубопроводным и автомобильным
- В) Воздушным и водным

3. Какой вид транспорта служит для перекачки нефти и газа от мест добычи к местам потребления?

- А) Железнодорожный
- Б) Трубопроводный
- В) Автомобильный

4. Каким видом транспорта перевозят больше всего грузов и пассажиров?

- А) Автомобильным и железнодорожным
- Б) Железнодорожным и водным
- В) Воздушным и водным

5. Распредели отрасли промышленности и сельского хозяйства по группам.

**(нефтедобыча, оленеводство, звероводство, лесозаготовка, нефтепереработка,
скотоводство, электроэнергетика, птицеводство)**

Промышленность

Сельское хозяйство

6. Разведением каких животных занимаются у нас в округе? Выбери правильные ответы.

- А) Оленей
- Б) Лошадей
- В) Пушных зверей
- Г) Коров
- Д) Свиной
- Е) Верблюдов

7. Какие сельскохозяйственные культуры выращивают? Выбери правильные ответы.

- А) Рожь
- Б) Картофель
- В) Арбузы
- Г) Овес
- Д) Овощи
- Е) Фрукты

Тест по теме
"Территориальная организация хозяйства" - 1 группа

1. О каком экономическом районе идет речь. Запишите ответ.

Расположен в восточной части округа. Это один из экономически развитых районов, т.к. здесь производится 92% всей промышленности округа.

Расположен в западной части округа в среднем течении двух рек Оби и Конды. Занимает 30% территории и дает 7% всей промышленности округа.

Расположен на северо-западе округа. Это наименее развитый в экономическом отношении, т.к. на его долю приходится около 1% производимой в округе промышленной продукции.

2. Пользуясь картой определи, о каком городе идет речь? Запиши название города.

Расположен в восточной части округа. Является главным городом района и занимает в округе 2 место по численности населения. _____

Расположен в центре Среднеобской низменности, на правом берегу реки Обь. Один из самых первых русских городов Сибири. Занимает первое место по численности населения. _____

Город, который объединил в своем названии "черное" золото Сибири и название реки. _____

Город, расположенный на правом берегу реки Иртыш. Относится к Обско-Кондинскому экономическому району и является административным центром округа.

Один из самых молодых городов Сибири, расположенный на берегу реки Нягань-Юган. _____

3. Дополни предложения.

Ведущей отраслью промышленности Среднеобского экономического района является _____.

В структуре экономики Обско-Кондинского экономического района наибольшее развитие получил _____ комплекс.

Основными направлениями хозяйственной деятельности Березовского экономического района являются _____, _____ и _____.

4. Выбери правильный ответ.

Крупными городами Среднеобского экономического района являются-

А) Сургут, Нижневартовск, Ханты-Мансийск

Б) Сургут, Нижневартовск, Нефтеюганск

5. На территории какого экономического района расположен город Нягань?

А) Обско-Кондинского

Б) Среднеобского

Тест по теме

"Территориальная организация хозяйства" - 2 группа

1. О каком экономическом районе идет речь. Выберите и запишите ответ.

Расположен в восточной части округа. Это один из экономически развитых районов, т.к. здесь производится 92% всей промышленности округа.

Расположен в западной части округа в среднем течении двух рек Оби и Конды. Занимает 30% территории и дает 7% всей промышленности округа.

Расположен на северо-западе округа. Это наименее развитый в экономическом отношении, т.к. на его долю приходится около 1% производимой в округе промышленной продукции.

(Березовский

Обско-Кондинский

Среднеобский)

2. Пользуясь картой и словами для справок определи, о каком городе идет речь? Запиши.

Расположен в восточной части округа. Является главным городом района и занимает в округе 2 место по численности населения. _____

Расположен в центре Среднеобской низменности, на правом берегу реки Обь. Один из самых первых русских городов Сибири. Занимает первое место по численности населения. _____

Город, который объединил в своем названии "черное" золото Сибири и название реки. _____

Город, расположенный на правом берегу реки Иртыш. Относится к Обско-Кондинскому экономическому району и является административным центром округа.

Один из самых молодых городов Сибири, расположенный на берегу реки Нягань-Юган. _____

Слова для справок: Нижневартовск, Нефтеюганск, Ханты-Мансийск, Нягань, Сургут.

3. Выбери правильный ответ и дополни предложения.

Ведущей отраслью промышленности Среднеобского экономического района является _____.

Сургут - крупнейший в России центр _____.

В структуре экономики Обско-Кондинского экономического района наибольшее развитие получил _____ комплекс.

Основными направлениями хозяйственной деятельности Березовского экономического района являются _____, _____.
(нефтедобыча, лесной, электроэнергетики, оленеводство, звероводство)

4. Выбери правильный ответ, пользуясь картой.

Крупными городами Среднеобского экономического района являются-

А) Сургут, Нижневартовск, Ханты-Мансийск

Б) Сургут, Нижневартовск, Нефтеюганск

Тест по теме
"Территориальная организация хозяйства" - 3 группа

1. На сколько экономических районов поделена территория округа?

- А) 5 Б) 3 В) 9 Г) 4

2. В каком экономическом районе округа развита нефтедобывающая промышленность? Выбери правильный ответ.

- А) Березовский экономический район
Б) Среднеобский экономический район
В) Обско-Кондинский экономический район

3. К какому экономическому району относятся города- Сургут, Нижневартовск, Нефтеюганск?

- А) Березовский экономический район
Б) Среднеобский экономический район
В) Обско-Кондинский экономический район

4. К какому экономическому району относится город Нягань?

- А) Березовский экономический район
Б) Среднеобский экономический район
В) Обско-Кондинский экономический район

5. В каком экономическом районе основным направлением хозяйственной деятельности является- оленеводство, рыболовство и звероводство?

- А) Березовский экономический район
Б) Среднеобский экономический район
В) Обско-Кондинский экономический район

6. Какой из городов округа занимает первое место по численности населения?

- А) Нефтеюганск В) Ханты-Мансийск
Б) Сургут Г) Нижневартовск

7. Какой город находится на берегу реки Иртыш и является административным центром округа?

- А) Нефтеюганск В) Ханты-Мансийск
Б) Сургут Г) Нягань

8. Выбери и подчеркни 3 самых крупных города округа.

Сургут, Нягань, Нижневартовск, Советский, Югорск, Нефтеюганск, Ханты-Мансийск, Урай, Лангепас, Когалым

**Тест по теме
"Население края" - 1 группа.**

1. Дополни предложения.

ХМАО _____ район России, так как в нем проживают люди почти 100 национальностей. Коренными народами округа являются _____, _____, _____. Основными традиционными занятиями являются _____, _____, _____.

2. Рассмотрй картинки. Подпиши названия хозяйственных и жилых построек.



3. Рассмотрй картинки. Подпиши название занятий ханты и манси. Какие орудия труда использовали для данных видов занятий? Запиши названия орудий труда.



4. Вставь в текст недостающие слова.

Лучшим средством передвижения среди болот и тайги было передвижение по рекам. Для этого пользовались легкими лодками-долбленками _____, которые изготавливали из цельного ствола дерева _____ или _____.

Зимой пользовались лыжами. Лыжи изготовленные только из дерева называются _____, а подшитые мехом оленя _____.

Для езды на оленях пользовались _____.

5. Какую одежду и обувь носили ханты, манси и ненцы? Подчеркни названия .

Малица, юбка, шуба, сах, кафтан, пальто, кисы, сапоги, нырики, куртка, совик, платок, рубаха, шапка, туфли, платье.

6. Какими чертами и качествами должны обладать ханты, чтобы выжить в суровых условиях? Запиши то, что ты считаешь нужным.

**Тест по теме
"Население края" - 2 группа.**

1. Подчеркните названия коренных народов нашего округа.

Русские, ханты, белорусы, украинцы, манси, татары, башкиры, ненцы, чукчи.

2. Рассмотрите картинки. Выбери ответ и подпиши названия хозяйственных и жилых построек. (*лабаз, дом, шалаш, чум*)



3. Рассмотрите картинки. Подпиши название занятий ханты и манси. Какие орудия труда использовали для данных видов занятий? Выбери и запиши названия орудий труда.



(*аркан, лодка, самострел, ловушка, нарты, сеть, лук со стрелами, хорей, запоры*)

4. Выбери правильный ответ и дополни предложения.

Лучшим средством передвижения среди болот и тайги было передвижение по рекам. Для этого пользовались легкими лодками-долбленками _____, которые изготавливали из цельного ствола дерева _____ или _____.

Зимой пользовались лыжами. Лыжи изготовленные только из дерева называются _____, а подшитые мехом оленя _____.

Для езды на оленях пользовались _____.

(*обласа, кедр, осина, голицы, подволоки, нарты*)

5. Какую одежду и обувь носили ханты, манси и ненцы? Подчеркни названия .

Малица, юбка, шуба, сах, кафтан, пальто, кисы, сапоги, нырики, куртка, совик, платок, рубаха, шапка, туфли, платье.

6. Какими чертами и качествами должны обладать ханты, чтобы выжить в суровых условиях? Подчеркни то, что ты считаешь нужным.

Трудолюбие, лень, аккуратность, выносливость, бдительность, терпение, усидчивость, бестолковость, настойчивость, работоспособность, запаривость, внимательность, безразличие, грубость, глупость, мужественность, ловкость, сила, пассивность.

**Тест по теме
"Население края" - 3 группа.**

1. Подчеркните названия коренных народов нашего округа.

Русские, ханты, белорусы, украинцы, манси, татары, башкиры, ненцы, чукчи.

2. Рассмотрите картинки. Выбери ответ и подпиши названия хозяйственных и жилых построек. (*лабаз, дом, шалаш, чум*)



3. Рассмотрите картинки. Подпиши название занятий ханты и манси.



4. Какими предметами пользовались во время охоты. Выбери правильный ответ.

- А) аркан, самострел, лодка, ловушка
- Б) ловушка, самострел, капкан, лыжи

5. Чем ханты подбивали лыжи?

- А) мехом оленя, лося
- Б) мехом лисицы, соболя
- В) брезентом

6. Что использовали при езде на оленях?

- А) нарты
- Б) лыжи
- В) сани

7. Какую одежду и обувь носили ханты, манси и ненцы? Подчеркни названия.

Малица, юбка, шуба, сах, кафтан, пальто, кисы, сапоги, нырики, куртка, совик, платок, рубаха, шапка, туфли, платье.

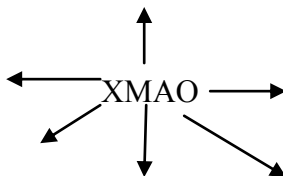
6. Какими чертами и качествами должны обладать ханты, чтобы выжить в суровых условиях? Подчеркни то, что ты считаешь нужным.

Трудолюбие, лень, аккуратность, выносливость, бдительность, терпение, усидчивость, бестолковость, настойчивость, работоспособность, запасливость, внимательность, безразличие, грубость, глупость, мужественность, ловкость, сила, пассивность.

Итоговый тест
"География ХМАО" - 1 группа

1. Напиши полное название нашего округа.

2. Подпиши названия субъектов РФ, с которыми граничит округ?



3. Найди на карте России территорию нашего края, обведи ее в кружок и подпиши название столицы округа.



4. Главная особенность природных условий нашего края. Выбери правильный ответ и подчеркни его.

- А) Зима продолжается 5-6 месяцев
- Б) Длинное и жаркое лето
- В) Морозы стоят долго и иногда доходят до (-40)
- Г) Лето короткое и теплое
- Д) Солнце высоко поднимается над горизонтом и хорошо согревает поверхность
- Е) Резкая смена погоды во все сезоны года
- Ж) Влияние воздушных масс с Тихого океана
- З) Влияние воздушных масс с Атлантики и Арктики

5. Выбери правильный ответ и запиши.

Основное направление хозяйственной деятельности Среднеобского экономического района - это _____

Основное направление хозяйственной деятельности Обско-Кондинского экономического района- это _____

Основное направление хозяйственной деятельности Березовского экономического района

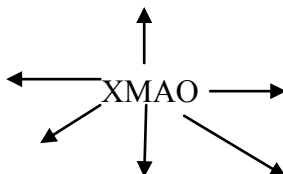
6. Дополни предложение.

Основными богатствами края являются _____

Итоговый тест
"География ХМАО" - 2 группа

1. Напиши полное название нашего округа.

2. Пользуясь картой, подпиши названия субъектов РФ, с которыми граничит округ?



3. Найди на карте России территорию нашего края, обведи ее в кружок и подпиши название столицы округа. Используй физическую карту России.



4. Какова главная особенность природных условий нашего края. Выбери правильный ответ и подчеркни его.

- А) Зима продолжается 5-6 месяцев
- Б) Длинное и жаркое лето
- В) Морозы стоят долго и иногда доходят до (-40)
- Г) Лето короткое и теплое
- Д) Солнце высоко поднимается над горизонтом и хорошо согревает поверхность
- Е) Резкая смена погоды во все сезоны года
- Ж) Влияние воздушных масс с Тихого океана
- З) Влияние воздушных масс с Атлантики и Арктики

5. Выбери правильный ответ и запиши.

Основное направление хозяйственной деятельности Среднеобского экономического района - это _____

Основное направление хозяйственной деятельности Обско-Кондинского экономического района- это _____

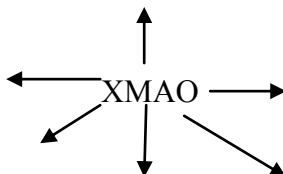
Основное направление хозяйственной деятельности Березовского экономического района

(лесозаготовка и переработка, оленеводство, нефтедобыча)

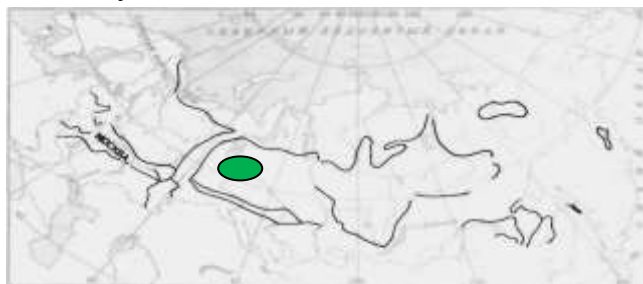
Итоговый тест
«География ХМАО» -3 группа

1. Напиши полное название нашего округа.

2. Пользуясь картой, подпиши названия субъектов РФ, с которыми граничит округ?



3. Пользуясь картой, найди и подпиши название равнины, на которой находится территория нашего округа. Подпиши столицу ХМАО.



4. Какова главная особенность природных условий нашего края. Выбери правильный ответ и подчеркни его.

- А) Зима продолжается 5-6 месяцев
- Б) Длинное и жаркое лето
- В) Морозы стоят долго и иногда доходят до (-40)
- Г) Лето короткое и теплое
- Д) Солнце высоко поднимается над горизонтом и хорошо согревает поверхность
- Е) Резкая смена погоды во все сезоны года
- Ж) Влияние воздушных масс с Тихого океана
- З) Влияние воздушных масс с Атлантики и Арктики

5. Выбери правильные ответы. Какие районы округа являются ведущими по добыче нефти?

- А) Березовский район
- Б) Сургутский район
- В) Ханты-Мансийский район
- Г) Нижневартовский район
- Д) Октябрьский район
- Е) Нефтеюганский
- Ж) Кондинский район

ЛИТЕРАТУРА

1. Пороцкая Т.И. "Методика преподавания географии во вспомогательной школе", М.: Просвещение, 1970.
2. Лифанова Т.М., Соломина Е.Н. учебник "География 6 класс", М.: Просвещение, 2008.
4. Лифанова Т.М. "Рабочая тетрадь по начальному курсу физической географии", М.: Просвещение, 2002.
5. Лифанова Т.М., Соломина Е.Н. "География России 7 класс", М. : Просвещение, 2005.
6. Лифанова Т.М. "Рабочая тетрадь по физической географии России 7 класс", М.: Просвещение, 2005.
7. Лифанова Т.М., Соломина Е.Н. "География материков и океанов 8 класс», М.: Просвещение, 2004.
8. Лифанова Т.М. «Рабочая тетрадь по географии материков и океанов 8 класс, М.: Просвещение, 2005.
9. Лифанова Т.М., Соломина Е.Н. "География Государства Евразии", М.: Просвещение, 2006.
10. Лифанова Т.М. «Рабочая тетрадь Государства Евразии 9 класс, М.: Просвещение, 2006.